

001. સુંદરી, ભોરરિન્ડો, જોડીયા પાવા, મોરચંગ વગેરે વાદ્યો મુખ્યત્વે કયા જિલ્લાના સંગીતમાં વપરાય છે ?  
(A) કચ્છ (B) દાહોદ  
(C) ડાંગ (D) તાપી
002. અલગ અલગ રાજ્યોના નૃત્યો અને સંબંધીત રાજ્યની જોડીઓ પૈકી કઈ જોડી યોગ્ય નથી ?  
(A) પંડવની (Pandavani) - છત્તીસગઢ (B) બીહુ (Bihu) નૃત્ય - આસામ  
(C) વિર નાટ્યમ્ (Veer natyam) - તામીલનાડુ (D) ઓટમ (Ootam) - કેરળા
003. ભારતના કિલ્લાઓ અને સંબંધીત રાજ્યોને યોગ્ય રીતે જોડો.  
(1) આમેરનો કિલ્લો (a) હિમાચલ પ્રદેશ  
(2) આગ્રાનો કિલ્લો (b) મહારાષ્ટ્ર  
(3) કાંગરાનો કિલ્લો (c) રાજસ્થાન  
(4) રાયગઢનો કિલ્લો (d) ઉત્તર પ્રદેશ  
(A) 1 - d, 2 - a, 3 - b, 4 - c (B) 1 - c, 2 - d, 3 - a, 4 - b  
(C) 1 - a, 2 - b, 3 - c, 4 - d (D) 1 - b, 2 - c, 3 - d, 4 - a
004. હિન્દી ભાષાના લેખકો અને તેઓના પુસ્તકોની જોડીઓ પૈકી કઈ જોડીઓ યોગ્ય છે ?  
(1) કામાયની - જયશંકર પ્રસાદ  
(2) અપ્સરા - સૂર્યકાન્ત ત્રિપાઠી  
(3) યામા - મહાદેવી વર્મા  
(4) ચિંદબરા - સુમિત્રાનંદન પંત  
(A) 1, 2 અને 3 (B) 1, 2 અને 4  
(C) 1, 3 અને 4 (D) 1, 2, 3 અને 4
005. પ્રખ્યાત મસ્જિદ (દરગાહ) અને તેના સ્થાન અંગેના જોડકાઓ પૈકી કઈ જોડી યોગ્ય નથી ?  
(A) જામા મસ્જિદ (Jama Masjid) - દિલ્હી, આગરા  
(B) મક્કાહ મસ્જિદ (Makkah Masjid) - હૈદરાબાદ  
(C) બારા ઈમામબારા (Bara-Imambara) - પાણીપત  
(D) હાજી અલી દરગાહ (Haji Ali Dargah) - મુંબઈ
006. કાંચીપુરમ્ (Kanchipuram) જે મંદીરો માટે પ્રખ્યાત છે તે કયા રાજ્યમાં આવેલું છે ?  
(A) ઓરીસ્સા (B) કેરળા  
(C) આંધ્રપ્રદેશ (D) તામીલનાડુ
007. પ્રખ્યાત રોક ગાર્ડન (Rock Garden) કયા શહેરમાં આવેલ છે ?  
(A) જયપુર (B) ચંદીગઢ  
(C) લખનૌ (D) સીમલા
008. ભારતના ઉત્સવો અને સંબંધીત રાજ્યોની જોડીઓ પૈકી કઈ જોડી યોગ્ય નથી ?  
(A) બ્રમ્હોત્સવ (Brahmotsavam) - આંધ્રપ્રદેશ (B) ડ્રી મહોત્સવ (Dree festival) - અરુણાચલ પ્રદેશ  
(C) છઠ પૂજા (Chhath Puja) - બિહાર (D) કાર્નિવલ (Carnival) - ઝારખંડ

009. યુનેસ્કો (UNESCO) દ્વારા વર્લ્ડ હેરીટેજ (World Heritage) માં સમાવેલ સ્થળો અને સ્થાનની જોડીઓ પૈકી કઈ જોડી યોગ્ય છે ?
- (1) ખજૂરાહો (Khajuraho) – મધ્ય પ્રદેશ  
 (2) બોધ ગયા (Bodh Gaya) – ઉત્તર પ્રદેશ  
 (3) ચોલા મંદીર (Chola Temple) – કર્ણાટક  
 (4) ચાંપાનેર - પાવાગઢ – ગુજરાત
- (A) 1 અને 2  
 (B) 1 અને 3  
 (C) 1 અને 4  
 (D) 1, 2, 3 અને 4
010. મેળાઓ અને તેના સ્થળની જોડીઓ યોગ્ય રીતે ગોઠવો.
- (1) ઊંટના વેચાણ માટેનો મેળો  
 (2) ગધેડાના વેચાણ માટેનો મેળો  
 (3) ભવનાથનો મેળો  
 (4) કુંભ મેળો
- (a) જૂનાગઢ  
 (b) અલાહાબાદ  
 (c) સિધ્ધપુર  
 (d) વૌઠા (ધોળકા તાલુકો)
- (A) 1 - d, 2 - a, 3 - b, 4 - c  
 (B) 1 - c, 2 - d, 3 - a, 4 - b  
 (C) 1 - a, 2 - b, 3 - c, 4 - d  
 (D) 1 - b, 2 - c, 3 - d, 4 - a
011. નીચેના વાક્યો ચકાસો :
- (1) રાજસ્થાનમાં રણપ્રદેશને કારણે ધાબાવાળા ઘરો હોય છે.  
 (2) કોંકણ વિસ્તારમાં વધારે વરસાદ હોવાથી ઢાળવાળા છાપરાવાળા ઘરો હોય છે.  
 (3) કચ્છ વિસ્તારમાં ભૂગાનો ઉપયોગ રહેઠાણ તરીકે કરવામાં આવે છે.  
 (4) હિમાચલ પ્રદેશ અને ઉત્તરાખંડમાં બે માળના મકાન છે અને છાપરા ઢાળવાળા છે જેથી બરફ સહેલાઈથી સરકી જાય.
- (A) 1, 2, 3 અને 4 યોગ્ય છે.  
 (B) 1, 2 અને 3 યોગ્ય છે.  
 (C) 1, 3 અને 4 યોગ્ય છે.  
 (D) 1, 2 અને 4 યોગ્ય છે.
012. પૌરાણિક સ્થળો અને તેના તાલુકાઓને / જિલ્લાને યોગ્ય રીતે ગોઠવો.
- (1) લોથલ  
 (2) રંગપુર  
 (3) ધોળાવીરા  
 (4) રોઝડી અથવા શ્રીનાથગઢ
- (a) કચ્છ જિલ્લો  
 (b) રાજકોટ જિલ્લો  
 (c) લીમડી તાલુકો - સુરેન્દ્રનગર જિલ્લો  
 (d) ધોળકા તાલુકો
- (A) 1 - c, 2 - a, 3 - b, 4 - d  
 (B) 1 - d, 2 - c, 3 - a, 4 - b  
 (C) 1 - a, 2 - b, 3 - c, 4 - d  
 (D) 1 - b, 2 - c, 3 - d, 4 - a
013. નીચેના પૈકી કયું નૃત્ય / ગરબો ગુજરાતમાં કરવામાં આવતો નથી ?
- (A) માળીનો ચાળો અને ઠાકર્યા ચાળો  
 (B) શ્રમહારી ટીપણી નૃત્ય  
 (C) ધમાલ નૃત્ય અને પઢાર નૃત્ય  
 (D) ધનગર નૃત્ય
014. સ્મારક (Monuments) અને તેના સ્થળો દર્શાવતા જોડીઓ પૈકી કઈ જોડી યોગ્ય નથી ?
- (A) હિલ પેલેસ સંગ્રહાલય – ત્રિપુણ્થિથુરા (Tripunithura) (કેરળા)  
 (B) બહાઈ મંદિર – કલકત્તા  
 (C) જિંજી કિલા (Gingee fort) – પુડુચેરી (તામીલનાડુ)  
 (D) ચારમીનાર (Charminar) – હૈદરાબાદ

015. પ્રવાસનના સ્થળો અને સંબંધીત સ્થળની જોડીઓ ગોઠવો.

- |                          |             |
|--------------------------|-------------|
| (1) દાદા હરી વાવ         | (a) પાટણ    |
| (2) લક્ષ્મી વિલાસ પેલેસ  | (b) મોઢેરા  |
| (3) સૂર્ય મંદીર - ગુજરાત | (c) વડોદરા  |
| (4) રાણીની વાવ           | (d) અમદાવાદ |

- |                                |                                |
|--------------------------------|--------------------------------|
| (A) 1 - c, 2 - b, 3 - a, 4 - d | (B) 1 - d, 2 - c, 3 - b, 4 - a |
| (C) 1 - b, 2 - a, 3 - d, 4 - c | (D) 1 - a, 2 - d, 3 - c, 4 - b |

016. સંગીતકાર અને તેઓની નિપૂણતા અંગેની જોડીઓ પૈકી, કઈ જોડી યોગ્ય નથી ?

- |                                   |  |
|-----------------------------------|--|
| (A) ઉસ્તાદ અમજદ અલી ખાન - સરોદ    | (B) ડૉ. બાલામુરલીકૃષ્ણ - કર્ણાટકી શાસ્ત્રીય ગાયન |
| (C) ઉસ્તાદ બીસમીલ્લા ખાન - શહેનાઈ | (D) પંડીત રવિશંકર - સંતુર                        |

017. ગુજરાતના જિલ્લાઓ અને તેના મૂળ મથકને યોગ્ય રીતે ગોઠવો.

- |               |             |
|---------------|-------------|
| (1) અરવલ્લી   | (a) નડીયાદ  |
| (2) બનાસકાંઠા | (b) આહવા    |
| (3) ડાંગ      | (c) પાલનપુર |
| (4) ખેડા      | (d) મોડાસા  |

- |                                |                                |
|--------------------------------|--------------------------------|
| (A) 1 - d, 2 - c, 3 - b, 4 - a | (B) 1 - c, 2 - b, 3 - a, 4 - d |
| (C) 1 - b, 2 - a, 3 - d, 4 - c | (D) 1 - a, 2 - d, 3 - c, 4 - b |

018. નૃત્યકાર (Dancer) અને તેઓની શૈલીને યોગ્ય રીતે ગોઠવેલ, કઈ જોડી નથી ?

- E
- |   |
|---|
| (A) રૂકમણી દેવી અરુણદલે (Rukmini Devi Arundale) - ભરત નાટ્યમ્ |
| (B) પંડીત બીરજુ મહારાજ (Pandit Birju Maharaj) - કથક           |
| (C) કેલુચરણ મહોપાત્રા (Kelucharan Mahapatra) - ઓડિસી          |
| (D) ગુરુ બીપીન સીંઘ (Guru Bipin Singh) - સતત્રિયા             |

019. લેખક અને તેઓની કૃતિઓ પૈકી કઈ જોડીઓ યોગ્ય છે ?

- |  |
|--|
| (1) ગૌરીશંકર ગોવર્ધનરામ જોષી "ધૂમકેતુ" - ગુજરેશ્વર |
| (2) અશ્વિની ભટ્ટ - કમઠાણ                           |
| (3) જય વસાવડા - પાપ પશ્ચાતાપ                       |
| (4) કુંદનીકા કાપડીયા - પૂર્ણ અપૂર્ણ                |
- |                |                   |
|----------------|-------------------|
| (A) 1 અને 2    | (B) 1 અને 3       |
| (C) 1, 2 અને 4 | (D) 1, 2, 3 અને 4 |

020. ગુજરાતના કવિઓ અને તેઓની રચના અંગે કઈ જોડીઓ યોગ્ય છે ?

- |   |
|---|
| (1) નરસિંહ મહેતા - ભક્તિપદારથ               |
| (2) દયારામ - ઝગડો લોચન-મનનો                 |
| (3) મણિશંકર રત્નજી ભટ્ટ - અતિજ્ઞાન          |
| (4) સુરસિંહજી તખ્તસિંહજી ગોહિલ - એક આગિયાને |
- |                |                   |
|----------------|-------------------|
| (A) 1, 2 અને 3 | (B) 1, 2, 3 અને 4 |
| (C) 1, 2 અને 4 | (D) 2, 3 અને 4    |

021. નૃત્ય અને તેના સંબંધીત રાજ્યોને યોગ્ય રીતે ગોઠવો.
- (1) ભોરતલ ડાન્સ (Bhortal Dance) (a) છત્તીસગઢ  
 (2) બરડો ચામ (Bardo Chham) (b) અરુણાચલ પ્રદેશ  
 (3) રાઉત નચા (Raut Nacha) (c) આસામ  
 (4) નતી (Nati) (d) હિમાચલ પ્રદેશ
- (A) 1 - a, 2 - d, 3 - c, 4 - b (B) 1 - b, 2 - a, 3 - d, 4 - c  
 (C) 1 - c, 2 - b, 3 - a, 4 - d (D) 1 - d, 2 - c, 3 - b, 4 - a

022. ચિત્રકલા અને સંબંધીત રાજ્યોની જોડીઓ પૈકી કઈ જોડી યોગ્ય નથી ?

- (A) પટ્ટચિત્ર આર્ટ (Pattchitra Art) - કર્ણાટક  
 (B) કલમકારી પેઇન્ટિંગ (Kalamkari Painting) - આંધ્રપ્રદેશ  
 (C) વરલી આર્ટ (Warli Art) - મહારાષ્ટ્ર, ગુજરાત  
 (D) કાલીઘાટ પટ આર્ટ (Kalighat Pat art) - પશ્ચિમ બંગાળ

023. નીચેના વાક્યો તપાસો :

- (1) “લાવણી” એ મહારાષ્ટ્રમાં કરવામાં આવતા નૃત્યનો પ્રકાર છે. આ નૃત્યના “ઢોલકી” મુખ્ય વાજાંત્ર છે.  
 (2) “પંડવની (Pandavani)” માં ઇતિહાસના પાત્રો, મહાભારતના પ્રસંગોને લઈને ગાયનો બનાવવામાં આવે છે. “તંબુરા”નો સાથ ગાયનને આપવામાં આવે છે. છત્તીસગઢ, ઓરીસ્સા, આંધ્રપ્રદેશ રાજ્યાં તેનો પ્રચાર થયેલ છે.
- (A) માત્ર 1 વાક્ય યોગ્ય છે. (B) માત્ર 2 વાક્ય યોગ્ય છે.  
 (C) 1 અને 2 બંને વાક્યો યોગ્ય છે. (D) 1 અને 2 બંને વાક્યો યોગ્ય નથી.

024. પ્રોફેસર આમર્ત્ય સેન (Professor Amaratya Sen) કયા ક્ષેત્રમાં પ્રખ્યાત છે ?

- (A) બાયો કેમેસ્ટ્રી (Bio Chemistry) (B) ઇલેક્ટ્રોનીક્સ (Electronics)  
 (C) અર્થશાસ્ત્ર (Economics) (D) ભૂસ્તરશાસ્ત્ર (Geology)

025. નીચેના પૈકી કયા એકમોનો સમાવેશ મહારત્ના (Maharatna (psc)) કંપનીઓમાં થાય છે ?

- (1) ઑઈલ એન્ડ નેચરલ ગેસ કોર્પોરેશન લી.  
 (2) કોલ ઇન્ડીયા લી.  
 (3) સ્ટીલ ઓથોરીટી ઑફ ઇન્ડીયા લી.  
 (4) કોચીન શીપયાર્ડ લી.

- (A) 1, 2 અને 3 (B) 1, 3 અને 4  
 (C) 2, 3 અને 4 (D) 1, 2, 3 અને 4

026. ભારતીયો દ્વારા 1881 માં, મર્યાદીત જવાબદારીવાળી પ્રથમ બેન્ક કઈ હતી ?

- (A) ઔધ કોમર્શીયલ બેન્ક (Oudh Commercial Bank)  
 (B) હિન્દુસ્તાન કોમર્શીયલ બેન્ક  
 (C) પંજાબ નેશનલ બેન્ક  
 (D) પંજાબ એન્ડ સીંધ બેન્ક

027. ટૂંકી મુદતનું નાણા પ્રબંધ (Short term finance) સામાન્ય રીતે કેટલા સમય માટે આપવામાં આવે છે ?

- (A) 3 માસ (B) 6 માસ  
 (C) 9 માસ (D) 12 માસ

028. નીચેના વાક્યો તપાસો.  
 (1) સામાન્ય રીતે દર 4 (ચાર) વર્ષે નવા નાણા આયોગની રચના કરવામાં આવે છે.  
 (2) નાણા આયોગમાં અધ્યક્ષશ્રી ઉપરાંત બીજા 6 સભ્યો હોય છે.  
 (A) માત્ર 1 વાક્ય યોગ્ય છે. (B) માત્ર 2 વાક્ય યોગ્ય છે.  
 (C) 1 અને 2 બંને વાક્યો યોગ્ય છે. (D) 1 અને 2 બંને વાક્યો યોગ્ય નથી.
029. નીતિ આયોગનું મુખ્ય મથક (Head quarter) કઈ જગ્યાએ આવેલ છે ?  
 (A) નવી દિલ્હી (B) મુંબઈ  
 (C) કલકત્તા (D) ચેન્નાઈ
030. રાષ્ટ્રમાં ખેતીના ક્ષેત્રમાં સંશોધન અને તે અંગેનું આયોજન કોના દ્વારા કરવામાં આવે છે ?  
 (A) સ્ટેટ ટ્રેડિંગ કોર્પોરેશન (STC) (B) રીઝર્વેશનલ રૂરલ બેન્ક (RRB)  
 (C) નાબાર્ડ (D) નેશનલ કાઉન્સિલ ઓફ અગ્રીકલ્ચર રીસર્ચ (ICAR)
031. એક પિતાની ઉંમર તેના બે પુત્રોની ઉંમરના સરવાળા કરતા 3 ગણી છે. પાંચ વર્ષ પછી પિતાની ઉંમર બે પુત્રોના ઉંમરના સરવાળા કરતા બમણી છે, તો પિતાની હાલની ઉંમર કેટલી હશે ?  
 (A) 42 (B) 45  
 (C) 54 (D) 48
032. E ખાલી જગ્યા પુરો.  
 $\frac{4}{9}, \frac{9}{20}, \text{---}, \frac{39}{86}$   
 (A) 19/42 (B) 17/46  
 (C) 21/44 (D) 29/53
033. E  $x + 2y = 2x + y$  હોય તો  $\frac{x^2}{y^2}$  ની કિંમત કેટલી હશે ?  
 (A) 0 (B) 1  
 (C) 4 (D) 9
034. E જો  $x = -2$  (minus two) હોય તો  $x^3 - x^2 - x - 1$  ની કિંમત કેટલી હશે ?  
 (A) 1 (B) -11 (minus)  
 (C) + 11 (Plus) (D) - 10 (minus)
035. એક પરીક્ષામાં 70% વિદ્યાર્થીઓ ગુજરાતી અને 60% વિદ્યાર્થીઓ અંગ્રેજીમાં પાસ થયા છે. 15% વિદ્યાર્થીઓ બંને વિષયમાં નાપાસ થયા છે. જો કુલ 270 વિદ્યાર્થીઓ બંને વિષયમાં પાસ થાય તો કુલ વિદ્યાર્થીઓ કેટલા હશે ?  
 (A) 540 (B) 560  
 (C) 600 (D) 640
036. રમણની ગાડીમાં 100 લીટર પેટ્રોલ પુરવામાં આવે તો ગાડી 10 દિવસ ચાલે છે. જો રમણનો વપરાશ 25% વધી જાય તો ગાડી કેટલા દિવસ ચાલશે ?  
 (A) 6 (B) 7  
 (C) 8 (D) 9
037. તારીખ 4/12/2019, 1/1/2020, 29/1/2020, 26/2/2020 પછી કઈ તારીખ આવશે ?  
 (A) 24/03/2020 (B) 25/03/2020  
 (C) 26/03/2020 (D) 27/03/2020

038. પાંચ વ્યક્તિઓ ધરાવતા કુટુંબની વ્યક્તિ દીઠ માસની આવક રૂ. 10,000 છે તે પૈકી એકની આવક વાર્ષિક રૂ. 1,20,000 વધે છે? આ સંજોગોમાં કુટુંબની નવી આવક કેટલી હશે?
- (A) 12,000 રૂ. માસિક (B) 16,000 રૂ. માસિક  
(C) 20,000 રૂ. માસિક (D) 24,000 રૂ. માસિક
039. એક વ્યક્તિ A પેન અને B પેન કુલ રૂ. 650 માં ખરીદે છે. A પેન 20% નફાથી વેચે છે અને B પેન 25% નુકસાન કરીને વેચે છે, વ્યક્તિને બંને પેનની સરખી રકમ ઉપજે છે. આ સંજોગોમાં પેનની ખરીદ કિંમત કેટલી હશે?
- (A) 225 રૂ. અને 425 રૂ. (B) 250 રૂ. અને 400 રૂ.  
(C) 275 રૂ. અને 375 રૂ. (D) 300 રૂ. અને 350 રૂ.
040. એક મંદીરમાં ત્રણ ઘંટ છે અને તે નવ (9) બાર (12) અને પંદર (15) મિનિટ ના અંતરે વાગે છે, સવારે 8 વાગે ત્રણેય ઘંટ સાથે વાગે છે, તો ફરીથી બધાજ ઘંટ સાથે ક્યારે વાગશે?
- (A) 10 કલાકે (B) 11 કલાકે  
(C) 12 કલાકે (D) 13 કલાકે
041. સરખી ક્ષમતા વાળા "15" પંપ એક ટાંકી 7 દિવસમાં ભરે છે જો ટાંકી "પાંચ" દિવસમાં ભરવાની હોય તો કેટલા વધારાના પંપની જરૂર પડશે?
- (A) 6 (B) 7  
(C) 21 (D) 22
042. એક લંબચોરસની પરિમિતિ (Perimeter) 50 મીટર છે અને લંબાઈ પહોળાઈ કરતા 13 મીટર વધારે છે. આ સંજોગોમાં ચોરસનું ક્ષેત્રફળ કેટલા ચોરસ મીટર હશે?
- (A) 124 ચો. મીટર (B) 144 ચો. મીટર  
(C) 114 ચો. મીટર (D) 104 ચો. મીટર
043. એક સંખ્યામાં, તેના પછીની ક્રમિક સંખ્યાના બમણા ઉમેરતા 32 મળે છે તો તે સંખ્યા કઈ હશે?
- (A) 9 (B) 10  
(C) 11 (D) 12
044. 60 કિલોમીટર/કલાકની ઝડપે જતી 90 મીટર લાંબી ગાડી તે જ દિશામાં 50 કિલોમીટર/કલાકની ઝડપે જતી 110 મીટર લાંબી ગાડીને કેટલા સમયમાં પસાર કરશે?
- (A) 48 સેકન્ડ (B) 60 સેકન્ડ  
(C) 72 સેકન્ડ (D) 84 સેકન્ડ
045.  $\frac{1}{3} + \frac{1}{3 \times 5} + \frac{1}{5 \times 7} + \frac{1}{7 \times 9}$  નું સાદું રૂપ આપો.
- (A)  $\frac{11}{9}$  (B)  $\frac{9}{4}$   
(C)  $\frac{4}{9}$  (D)  $\frac{9}{11}$
046. 15 ઑગસ્ટ 2020 ના રોજ ભારતે કેટલામો સ્વતંત્રતા દિવસ (Independence day) ઉજવેલ હતો?
- (A) 75 (B) 74  
(C) 73 (D) 72

047. ભારત દ્વારા મલબાર એક્સરસાઈસ (Malbar Excercise) હાથ ધરનાર છે. આ નૌસેના એક્સરસાઈસમાં ભારત ઉપરાંત કયા દેશો ભાગ લેનાર છે ?  
 (1) જાપાન અને ઑસ્ટ્રેલીયા (2) અમેરીકા (3) ઈંગ્લેન્ડ અને ફ્રાન્સ (4) રશીયા  
 (A) 1 અને 2 (B) 2 અને 3  
 (C) 2 અને 4 (D) 1, 2, 3 અને 4
048. ધી પબ્લીક અફેર ઈન્ડેક્સ 2020 (The Public Affairs Index 2020) મુજબ સૌથી ઉત્તમ 'શાસિત' (Governed) રાજ્ય કયું છે ?  
 (A) ગુજરાત (B) કેરલા  
 (C) તામીલનાડુ (D) આંધ્રપ્રદેશ
049. મેરી સહેલી "Meri Saheli" પ્રોજેક્ટ કોના દ્વારા શરૂ કરવામાં આવેલ છે ?  
 (A) મહિલા અને બાલ વિકાસ વિભાગ (B) શિક્ષણ વિભાગ  
 (C) રેલ્વે સુરક્ષા દળ (RPF) (D) સામાજિક ન્યાય અને અધિકારીતા વિભાગ
050. માન. વડાપ્રધાનશ્રીએ "આરોગ્ય વન"નું ઉદ્ઘાટન કયા રાજ્યમાં કરેલ હતું ?  
 (A) છત્તીસગઢ (B) આસામ  
 (C) મહારાષ્ટ્ર (D) ગુજરાત
051. (National Unity Day) રાષ્ટ્રીય એકતા દિવસ ક્યારે ઉજવાય છે ?  
 (A) 30 જાન્યુઆરી (B) 26 ઑગસ્ટ  
 (C) 31 ઑક્ટોબર (D) 25 ડિસેમ્બર
052. હાલમાં કયા દેશ દ્વારા (No Mask, No Service Policy) "માસ્ક નહીં તો સેવા નહીં"ની નીતિ અપનાવેલ છે ?  
 (A) નેપાળ (B) બાંગ્લાદેશ  
 (C) શ્રીલંકા (D) જાપાન
053. ભારતના રમતવીરો અને તેઓની રમતને યોગ્ય રીતે જોડો.  
 (1) મોહીન્દર અમરનાથ (a) હૉકી  
 (2) સૈયદ મોદી (b) ટેનીસ  
 (3) મહેશ ભુપતી (c) બેડમીન્ટન  
 (4) ઝફર ઈકબાલ (d) ક્રિકેટ  
 (A) 1 - d, 2 - c, 3 - b, 4 - a (B) 1 - c, 2 - b, 3 - a, 4 - d  
 (C) 1 - b, 2 - a, 3 - d, 4 - c (D) 1 - a, 2 - d, 3 - c, 4 - b
054. ફોર્બ્સ 'Forbes' ની યાદી મુજબ 2020 માટે કઈ કંપનીને સર્વોત્તમ નિયોક્તા (નોકરીએ રાખનાર) તરીકે જાહેર કરેલ છે ?  
 (A) નોકીયા (B) એપલ  
 (C) સેમસંગ (D) રીલાયન્સ
055. ઈકો રૅપ રીપોર્ટ (Eco Wrap Report) કઈ બેન્ક દ્વારા જાહેર કરવામાં આવેલ છે ?  
 (A) SBI (B) Canara Bank  
 (C) ICICI Bank (D) HDFC Bank
056. શ્રી ગુરૂ તેગ બહાદુરની 400 મી જન્મ જયંતીની ઉજવણી માટેની ઉચ્ચ કક્ષાની કમીટીના અધ્યક્ષ કોણ છે ?  
 (A) માન. નરેન્દ્ર મોદી - વડાપ્રધાન શ્રી (B) માન. અમીત શાહ - ગૃહ મંત્રી શ્રી  
 (C) માન. રાજનાથસીંગ - સંરક્ષણ મંત્રી શ્રી (D) માન. સ્મૃતિ ઈરાની - વસ્ત્ર મંત્રાલય

057. ગોવામાં સેન્ડ ડ્યુન પાર્ક (Sand Dune Park) માટે નીચેના પૈકી કઈ સંસ્થાએ રૂા. 3 કરોડ મંજૂર કરેલ છે ?  
 (A) એશીયન ડેવલપમેન્ટ બેન્ક (B) ઈન્ટર નેશનલ મોનેટરી ફંડ  
 (C) વર્લ્ડ બેન્ક (D) યુનેસ્કો
058. સને 2019માં સૌથી વધારે પ્રવાસીઓએ કયા રાજ્યની મુલાકાત લીધેલ હતી ?  
 (A) હિમાચલ પ્રદેશ (B) રાજસ્થાન  
 (C) ગુજરાત (D) ઉત્તર પ્રદેશ
059. ફેબ્રુઆરી 2021 સુધી કયા દેશને FATF (Fnancial Action Task Force) ની પ્રતિબંધીત યાદીમાં સામેલ કરેલ છે ?  
 (A) ઈરાક (B) પાકીસ્તાન  
 (C) ચીન (D) ભુતાન
060. દુનિયાનો સૌથી મોટો ઝીંક સ્મેલ્ટર પ્રોજેક્ટ (Zinc Smelter Project) કયા રાજ્યમાં સ્થાપવામાં આવનાર છે ?  
 (A) રાજસ્થાન (B) ગુજરાત  
 (C) મહારાષ્ટ્ર (D) મધ્ય પ્રદેશ
061. ભારતના જંગલો અને સબંધીત જોડીઓ પૈકી કઈ જોડી યોગ્ય નથી ?  
 (A) સુંદર વન (Sundar Van) – પશ્ચિમ બંગાળ  
 (B) નામડા પાહ નેશનલ પાર્ક (Namda Pha National Park) – મધ્ય પ્રદેશ  
 (C) જીમ કોર્બેટ નેશનલ પાર્ક (Jim Corbett National Park) – ઉત્તરાખંડ  
 (D) બાંદીપુર નેશનલ પાર્ક (Bandipur National Park) – કર્ણાટક
062. સ્થળ અને તેના ઉત્પાદન અંગેની વિગતો યોગ્ય રીતે જોડો.  

<u>સ્થળ</u>	<u>મુખ્ય ઉત્પાદન</u>
(1) વિજય વાડા	(a) હિરાની ખાણો
(2) ફરીદાબાદ	(b) હાથવણાટ
(3) પન્ના	(c) ઑટો પાર્ટ
(4) વારાણસી	(d) કાચ અને બંગડીઓ
(A) 1 - b, 2 - c, 3 - d, 4 - a	(B) 1 - a, 2 - b, 3 - c, 4 - d
(C) 1 - d, 2 - a, 3 - b, 4 - c	(D) 1 - c, 2 - d, 3 - a, 4 - b
063. નીતિ આયોગ દ્વારા સને 2020 માટેના “Export Preparedness Index 2020” મુજબ પ્રથમ અને બીજા સ્થાને કયા રાજ્યો આવેલ છે ? (Costal States)  
 (A) ગુજરાત અને મહારાષ્ટ્ર. (B) તામીલનાડુ અને ઓડીસ્સા  
 (C) કર્નાટક અને કેરલા (D) ગુજરાત અને આંધ્ર પ્રદેશ
064. આંતરરાષ્ટ્રીય હવાઈમથક (International Airport) અને સંબંધીત રાજ્ય/સ્થળની જોડીઓ પૈકી કઈ જોડી યોગ્ય નથી ?  
 (A) વિર સાવરકર ઈન્ટરનેશનલ એરપોર્ટ – અંદામાન નિકોબાર  
 (B) લોકપ્રીય ગોપીનાથ બોરડોલાઈ ઈન્ટરનેશનલ એરપોર્ટ – આસામ  
 (C) ગયા એરપોર્ટ – મધ્ય પ્રદેશ  
 (D) સરદાર વલ્લભભાઈ પટેલ ઈન્ટરનેશનલ એરપોર્ટ – ગુજરાત
065. સિંહ જેવી પૂંછડી ધરાવતા મીકાક (Lion tailed macaque) ભારતમાં કયા રાજ્યોમાં જોવા મળે છે ?  
 (1) તામીલનાડુ (2) કેરળા (3) કર્ણાટક (4) આંધ્રપ્રદેશ  
 (A) 1, 2, 3 અને 4 (B) 1, 2 અને 4  
 (C) 2, 3 અને 4 (D) 1, 2 અને 3



066. નીચેના પૈકી કઈ બાબતોને જૈવ વિવિધતા (Biodiversity) સાથે સંબંધ છે ?  
 (1) International Treaty on Plant Genetic Resources for Food and Agriculture  
 (2) The United Nations Convention to Combat Desertification  
 (3) The World Heritage Convention  
 (A) માત્ર 1 અને 2 (B) માત્ર 1 અને 3  
 (C) માત્ર 2 અને 3 (D) 1, 2 અને 3
067. “Bio Carbon Fund Initiative for Sustainable Forest Landscapes”નું કોના દ્વારા સંચાલન કરવામાં આવે છે ?  
 (A) એશીયન ડેવલપમેન્ટ બેન્ક (ADB)  
 (B) ઇન્ટરનેશનલ મોનેટરી ફંડ (IMF)  
 (C) યુનાઈટેડ નેશન્સ એનવાયરોન્મેન્ટ પ્રોગ્રામ (United Nations Environment Programme)  
 (D) વર્લ્ડ બેન્ક (World Bank)
068. નીચેના પૈકી કયા નેશનલ પાર્કમાં “Floating vegetation that support a rich biodiversity” જોવા મળે છે ?  
 (A) ભીટરકનીકા નેશનલ પાર્ક (Bhitarkanika National Park)  
 (B) કૈબુલ લામજાઓ નેશનલ પાર્ક (Kaibul Lamjao National Park)  
 (C) કોલાડીઓ ઘાના નેશનલ પાર્ક (Keoladeo Ghana National Park)  
 (D) સુલતાનપુર નેશનલ પાર્ક (Sultanpur National Park)
069. નીચેના પૈકી કયા સંમેલનમાં ઓઝોન અવક્ષય પદાર્થના નિયંત્રણ અને ઉપયોગ ઘટાડવા માટે (Issue of control and phasing out of use of ozone depleting substances) ની ચર્ચા થયેલ હતી ?  
 (A) બેટન વુડ કોન્ફરન્સ (Betton Woods Conference)  
 (B) મોન્ટ્રીયલ પ્રોટોકોલ (Montreal Protocol)  
 (C) ક્યોટો પ્રોટોકોલ (Kyoto Protocol)  
 (D) નાગોયા પ્રોટોકોલ (Nagoya Protocol)
070. “ધી સાયન્સ ટેકનોલોજી અને ઇનોવેશન પોલીસી” (The Science, Technology and Innovation Policy) આખરી ક્યારે જાહેર કરવામાં આવેલી હતી ?  
 (A) 2018 (B) 2019  
 (C) 2020 (D) 2017
071. રાષ્ટ્રીય સંશોધન સંસ્થાઓ અને રાજ્યોની જોડીઓ પૈકી કઈ જોડી યોગ્ય નથી ?  
 (A) આર્યભટ્ટ પ્રેક્ષણ વિજ્ઞાન સંશોધન સંસ્થા (Aryabhata Research Institute of Observational Science) – ઉત્તરાખંડ  
 (B) બીરબલ સહાની પૂરાવિજ્ઞાન સંસ્થા (Birbal Sahani Institute of Palaeo-sciences) – ઉત્તરપ્રદેશ  
 (C) ભારતીય તારા ભૌતિકી સંસ્થા (Indian Institute of Astrophysics) – કેરળ  
 (D) ઇન્સ્ટીટ્યુટ ઓફ ફિઝિક્સ (Institute of Physics) – ઓરીસ્સા
072. નીચેના વાક્યો તપાસો :  
 (1) “EOS-01” સેટેલાઈટ PSLV-C49 રોકેટ દ્વારા લોન્ચ કરાશે.  
 (2) આ સેટેલાઈટમાં સિન્થેટિક અપર્યર રડાર (SAR) છે.  
 (3) આ સેટેલાઈટ સંરક્ષણ, ખેતી, ફોરેસ્ટ્રી અને પૂરની દેખરેખ માટે મદદરૂપ થશે.  
 (4) સતીશધવન સ્પેસ સેન્ટરથી આ સેટેલાઈટ લોન્ચ થશે, આ સેન્ટર કેરળમાં આવેલ છે.  
 (A) 1 અને 2 વાક્યો યોગ્ય છે. (B) 1 અને 3 વાક્યો યોગ્ય છે.  
 (C) 1, 2, 3 અને 4 વાક્યો યોગ્ય છે. (D) 1, 2 અને 3 વાક્યો યોગ્ય છે.

073. ભારતના મહાન વૈજ્ઞાનિકો અને તેઓના યોગદાનના ક્ષેત્રોની જોડીઓ પૈકી કઈ જોડી યોગ્ય નથી ?
- (A) શ્રી ચંદ્રશેખર વેંકટ રામન - પ્રકાશનું વિકિરણ (Scattering of light)
- (B) શ્રી હોમી જે. ભાભા - ક્વૉન્ટમ થિયરી (Quantum Theory)
- (C) શ્રી એસ. ચંદ્રશેખર - મેથેમેટીકલ થીયરી ઓફ બ્લેક હોલ (Mathematical theory of black holes)
- (D) શ્રી શ્રીનીવાસ રામાનુજન - જીવ વિજ્ઞાન (Biologist)

074. નીચેના વાક્યો ચકાસો :
- (1) ધ અટલ ઈનોવેશન મિશન નીતિ આયોગ દ્વારા નવોત્થાન અને સાહસિકતા વધારવા (Innovation and entrepreneurship) શરૂ કરવામાં આવેલ છે.
- (2) આ મિશન હેઠળ, શાળાઓ, કૉલેજો અને ઉચ્ચ શિક્ષણની સંસ્થાઓ સામાજિક અને અન્ય સંસ્થાઓને નવા ઉત્પાદનમાં સહાય અને નવા સ્ટાર્ટઅપ્સને મદદ કરવાનો હેતુ છે.
- (A) માત્ર 1 વાક્ય યોગ્ય છે. (B) માત્ર 2 વાક્ય યોગ્ય છે.
- (C) 1 અને 2 બંને વાક્યો યોગ્ય છે. (D) 1 અને 2 બંને વાક્યો યોગ્ય નથી.

075. ગુજરાતની સંસ્થાઓ અને તેઓના સ્થળોને યોગ્ય રીતે જોડો.
- (1) ગુજરાત અનર્જ, ટ્રેનીંગ અને રીસર્ચ ઈન્સ્ટીટ્યુટ (GETRI) (a) ગાંધીનગર
- (2) ભૌતિક અનુસંધાન પ્રયોગ શાળા (PRL) (b) વલ્લભ વિદ્યાનગર
- (3) સરદાર પટેલ રીન્યુએબલ એનર્જી રીસર્ચ ઈન્સ્ટીટ્યુટ (SPRERI) (c) અમદાવાદ
- (4) ગુજરાત બાયોટેકનોલોજી રીસર્ચ સેન્ટર (GBRC) (d) વડોદરા
- (A) 1 - c, 2 - b, 3 - a, 4 - d (B) 1 - d, 2 - c, 3 - b, 4 - a
- (C) 1 - b, 2 - a, 3 - d, 4 - c (D) 1 - a, 2 - d, 3 - c, 4 - b

076. નીચેના વાક્યો ચકાસો :
- (1) નેશનલ ઈ-ગવર્નન્સ પ્લાન (NeGP) કે જેમાં 27 મિશન મોડ પ્રોજેક્ટ અને 8 ઘટકો સામેલ હતા.
- (2) નેશનલ ઈ-ગવર્નન્સ પ્લાન સૌ પ્રથમ 2006 માં અમલમાં મુકવામાં આવેલ હતો.
- (3) ઉમંગ, ડીઝી લૉકર, એલ.એમ.એસ. (LMS) જેવા નવા પ્રોજેક્ટ લોકોની સુખાકારી સવલતો માટે શરૂ કરવામાં આવેલા છે.
- (A) 1 અને 2 યોગ્ય છે. (B) 2 અને 3 યોગ્ય છે.
- (C) 1 અને 3 યોગ્ય છે. (D) 1, 2 અને 3 યોગ્ય છે.

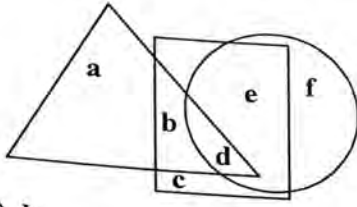
077. નીચેના વાક્યો તપાસો.
- (1) સાયબર સીક્યુરીટી સુરક્ષાને (ઈન્ફરમેશન ટેકનોલોજી સીક્યુરીટી (IT Security)) અથવા ઇલેક્ટ્રોનિક ઈન્ફરમેશન સીક્યુરીટી પણ કહે છે.
- (2) સાયબર સીક્યુરીટીમાં નેટવર્ક સીક્યુરીટી, એપ્લિકેશન સીક્યુરીટી, ઈન્ફરમેશન સીક્યુરીટી, ઓપરેશનલ સીક્યુરીટી જેવી બાબતોનો સમાવેશ થાય છે.
- (A) 1 અને 2 યોગ્ય છે. (B) માત્ર 1 વાક્ય યોગ્ય છે.
- (C) માત્ર 2 વાક્ય યોગ્ય છે. (D) 1 અને 2 વાક્યો યોગ્ય નથી.

078. ગુજરાત રાજ્યમાં ઈ-ગવર્નન્સ ક્ષેત્રમાં નીચેના પૈકી કયા પ્રોજેક્ટ હાથ ધરેલ છે ?
- (1) જી સ્વાન (G.S.W.A.N.)
- (2) સ્ટેટ ડેટા સેન્ટર - સર્વર ફાર્મ
- (3) સચિવાલય ઈન્ટીગ્રેટેડ કોમ્યુનિકેશન નેટવર્ક (SICN)
- (4) ઈન્ટીગ્રેટેડ વર્કફ્લો અને ડોક્યુમેન્ટ મેનેજમેન્ટ સીસ્ટમ (I.W.D.M.S.)
- (A) 1, 2 અને 3 (B) 1, 2 અને 4
- (C) 1, 3 અને 4 (D) 1, 2, 3 અને 4

079. નીચેના વાક્યો તપાસો.
- (1) “જી સ્વાન” 33 જિલ્લા અને 247 તાલુકાઓમાં ફેલાયેલ છે.
  - (2) “સ્વાગત” કાર્યક્રમમાં સામાન્ય વ્યક્તિ, માન. મુખ્યમંત્રીશ્રીને પોતાના પ્રશ્નો રજૂ કરે છે અને સ્થળ પર પ્રશ્નનો નિકાલ કરવાનો પ્રયત્ન થાય છે.
  - (3) ઈ ગ્રામ પ્રોજેક્ટ હેઠળ લોકોને ગ્રામ કક્ષાએ જરૂરી પ્રમાણપત્રો મેળવી આપવામાં આવે છે.
  - (4) ગુજરાત રાજ્યનું ‘State Data Centre’ દેશનું પ્રથમ કાર્યવંત થયેલ Data Centre છે.
- (A) 1, 2, 3 અને 4 વાક્યો યોગ્ય છે. (B) 1, 2 અને 3 વાક્યો યોગ્ય છે.  
(C) 1, 3 અને 4 વાક્યો યોગ્ય છે. (D) 1, 2 અને 4 વાક્યો યોગ્ય છે.
080. નીચેના વાક્યો તપાસો.
- (1) 1962 માં ભારત દ્વારા ‘અંતરીક્ષ કાર્યક્રમ’ શરૂ કરેલ હતો, અને 1967 માં “ઈસરો”ની સ્થાપના કરેલ હતી.
  - (2) આર્યભટ્ટ, ભાસ્કર, એપલ અને રોહિણી જેવા પ્રયોગાત્મક સેટેલાઈટ શરૂઆતના તબક્કે છોડવામાં આવેલ હતા.
  - (3) “ઈસરો” અને “નાસા” નીસાર સેટેલાઈટ બનાવશે જે માર્ઈકોવેવ રીમોટ સેન્સીંગ માટે ઉપયોગી થશે.
- (A) 1 અને 2 વાક્યો યોગ્ય છે. (B) 1, 2 અને 3 વાક્યો યોગ્ય છે.  
(C) 1 અને 3 વાક્યો યોગ્ય છે. (D) 2 અને 3 વાક્યો યોગ્ય છે.
081. ભારતના અંતરીક્ષ કેન્દ્રો અને તેના સ્થળોને યોગ્ય રીતે ગોઠવો.
- (1) Semi conductor hub (a) અમદાવાદ
  - (2) Solar observatory (b) ઉદયપુર
  - (3) Physical Research Laboratory (c) ચંદીગઢ
  - (4) Indian Institute of Remote Sensing (d) દહેરાદુન
- (A) 1 - d, 2 - c, 3 - b, 4 - a (B) 1 - a, 2 - d, 3 - c, 4 - b  
(C) 1 - b, 2 - a, 3 - d, 4 - c (D) 1 - c, 2 - b, 3 - a, 4 - d
082. (1) ACL-Antrix Corporation Ltd. એ ભારત સરકારની કંપની છે.  
(2) આ કંપની ‘ઈસરો’ ISRO ને વેચાણ પ્રક્રિયા અને વેપારી કાર્યમાં મદદરૂપ થાય છે.  
(3) આ સંસ્થાનું મુખ્ય મથક “થીરુવનન્તપુરમ” Thiruvananthapuram ખાતે આવેલ છે.
- (A) 1, 2 અને 3 યોગ્ય છે. (B) 1 અને 3 યોગ્ય છે.  
(C) 1 અને 2 યોગ્ય છે. (D) 2 અને 3 યોગ્ય છે.
083. પરમાણુ શક્તિથી વીજળી ઉત્પાદન કરતા એકમોની જોડી પૈકી કઈ જોડી યોગ્ય છે ?
- (1) કુદન કુલમ ન્યુક્લીયર પાવર પ્લાન્ટ - તામીલનાડુ (Kudam Kulam Nuclear Power Plant)
  - (2) કૈગા (Kaiga) Atomic Power Plant - કર્નાટક
  - (3) નરોરા ન્યુક્લીયર રીએક્ટર - ઉત્તર પ્રદેશ (Narora Nuclear Reactor)
  - (4) કાકરાપાર (Kakarapar) Atomic Power Plant - છત્તીસગઢ
- (A) 1, 2, 3 અને 4 વાક્યો યોગ્ય છે. (B) 2, 3 અને 4 વાક્યો યોગ્ય છે.  
(C) 1, 3 અને 4 વાક્યો યોગ્ય છે. (D) 1, 2 અને 3 વાક્યો યોગ્ય છે.
084. ભારતના સૌર ઉર્જાથી વીજળી ઉત્પાદન કરતા પ્લાન્ટ અને તેના સ્થળ (રાજ્ય)ની જોડી પૈકી કઈ જોડી યોગ્ય નથી ?
- (A) બદલા સોલાર પાર્ક (Bhadla Solar Park) - રાજસ્થાન
  - (B) શક્તિ સ્થળ સોલાર પાવર પ્રોજેક્ટ (Shakti Sthala Solar Power) - કર્ણાટક
  - (C) અલ્ટ્રા મેગા સોલાર પાર્ક (Ultra Mega Solar Park) - કેરલા
  - (D) રેવા સોલાર પાવર પ્રોજેક્ટ (Rewa Solar Power Project) - મધ્ય પ્રદેશ

085.

△ માં દર્શાવેલ બાજકો છે, □ માં દર્શાવેલ રમત વીરો છે અને ○ માં કોચ દર્શાવેલ છે, આ સંજોગોમાં કયા બાજકો રમતવીર છે ?



- (A) d (B) c  
(C) b (D) a

086.

AZ, CX, FU, ..... પછી શબ્દની કઈ જોડી હશે ?

- (A) KP (B) JQ  
(C) IR (D) IV

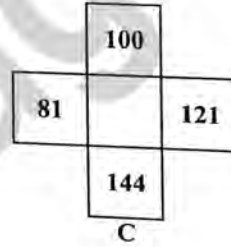
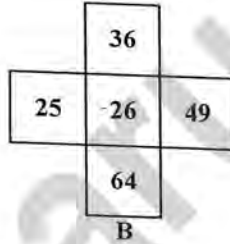
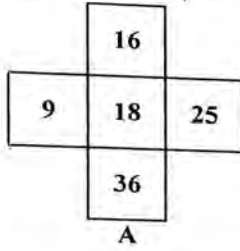
087.

એક બીજા ગ્રહ ઉપર પૃથ્વી, પાણી, પ્રકાશ, હવા અને આકાશને અનુક્રમે આકાશ, પ્રકાશ, હવા, પાણી અને પૃથ્વી તરીકે ઓળખવામાં આવે છે. કોઈ માણસને તરસ લાગી છે તો બીજા ગ્રહ ઉપર શાની માંગણી કરશે જેથી તેની તરસ શાંત થાય ?

- (A) પૃથ્વી (B) આકાશ  
(C) પ્રકાશ (D) હવા

088.

□ ખાલી જગ્યા પુરો.



- (A) 42 (B) 52  
(C) 32 (D) 62

089.

24	18	34
18	?	15
38	27	11

ખાલી જગ્યામાં યોગ્ય સંખ્યા મુકો.

- (A) 24 (B) 43  
(C) 18 (D) 27

090.

$x_1, x_2$ , અને  $x_3$  ની સરેરાશ 14 છે.  $x_2$  અને  $x_3$  ના બમણાનું મુલ્ય 30 છે. તો  $x_1$  નું મુલ્ય કેટલું હશે ?

- (A) 42 (B) 15  
(C) 14 (D) 27

091. નીચેના વાક્યો તપાસો :
- (1) સમ્રાટ હર્ષવર્ધને સાત વર્ષ સુધી વિજયયાત્રા કરીને થાણેશ્વરના નાનકડા રાજ્યમાંથી વિશાળ સામ્રાજ્ય ઉભું કરેલ હતું.  
 (2) મહાકવિ બાણભટ્ટ તેઓના દરબારમાં બિરાજમાન હતા.  
 (3) સમ્રાટ હર્ષવર્ધને ત્રણ નાટકો લખેલ હતા.  
 (4) નાલંદા વિદ્યાપીઠના વિકાસમાં સમ્રાટ હર્ષવર્ધનનો અગત્યનો ફાળો છે.
- (A) 1, 2 અને 3 યોગ્ય છે. (B) 1, 2, 3 અને 4 યોગ્ય છે.  
 (C) 1, 3 અને 4 યોગ્ય છે. (D) 2, 3 અને 4 યોગ્ય છે.
092. લેખક અને તેઓની કૃતિને યોગ્ય રીતે જોડો.
- (1) હેમચંદ્રાચાર્ય (a) પ્રબોધ ચિંતામણી  
 (2) વિશાખાદત્ત (b) સિદ્ધહેમ શબ્દાનુશાસન  
 (3) કલ્હણ (c) મુદ્રા રાક્ષસ  
 (4) મેરુતુંગ (d) રાજતરંગિણી
- (A) 1 - b, 2 - c, 3 - d, 4 - a (B) 1 - c, 2 - d, 3 - a, 4 - b  
 (C) 1 - d, 2 - a, 3 - b, 4 - c (D) 1 - a, 2 - b, 3 - c, 4 - d
093. નીચેના પૈકી કયું વાક્ય યોગ્ય નથી ?
- (A) રાણી ઉદયમતિએ પાટણ ખાતે “રાણીની વાવ” બંધાવેલ હતી.  
 (B) રાજમાતા મીનળદેવીએ ધોળકામાં મલાવ તળાવ અને વિરમગામમાં મુનસર તળાવ બંધાવેલ.  
 (C) સિધ્ધરાજ જયસિંહના સમયકાળ દરમ્યાન સહસ્ત્રલિંગ તળાવ બાંધવામાં આવેલ હતું.  
 (D) સાતમી સદીમાં મોઢેરાનું સૂર્યમંદિર અને આબુનું વિમલસિંહ મંદિર બનેલ હતા.
094. દેશના મહાનુભાવો અને તેઓના કાર્યો / સંદેશાઓની જોડીઓ પૈકી કઈ જોડી યોગ્ય નથી ?
- (A) રાજા રામમોહનરાય – બ્રહ્મોસમાજની સ્થાપના, વાણી સ્વાતંત્ર્ય, સ્ત્રી અધિકારના હિમાયતી  
 (B) દયાનંદ સરસ્વતી – આર્ય સમાજની સ્થાપના, વેદો તરફ પાછા વળોનું સૂત્ર  
 (C) નરેન્દ્રનાથ દત્ત – સ્વામી વિવેકાનંદ, ઉઠો જાગો અને ધ્યેય પ્રાપ્તિ સુધી મંડ્યા રહોનું સૂત્ર  
 (D) જ્યોતિબા ફૂલે – મહારાષ્ટ્ર ભીલ સેવા મંડળની સ્થાપના, કાંગડી ખાતે ગુરૂકુલની સ્થાપના
095. નીચેના વાક્યો તપાસો :
- (1) દાદાભાઈ નવરોજી, સુરેન્દ્રનાથ બેનરજી, ગોપાલકૃષ્ણ ગોખલે, ફિરોજશાહ મહેતા જેવા નેતાઓ “મવાળ વલણના નેતાઓ” હતા.  
 (2) બાળગંગાધર ટિળક, લાલા લજપતરાય અને બિપિનચંદ્ર પાલ જેવા નેતાઓ “જહાલવાદી” નીતિના પ્રેરક હતા.
- (A) માત્ર 1 વાક્ય યોગ્ય છે. (B) માત્ર 2 વાક્ય યોગ્ય છે.  
 (C) 1 અને 2 બંને વાક્યો યોગ્ય છે. (D) 1 અને 2 બંને વાક્યો યોગ્ય નથી.
096. ભારતના કાન્તિવીરો અને તેઓના જન્મના રાજ્યોને યોગ્ય રીતે ગોઠવો.
- (1) વિનાયક સાવરકર (a) ઉત્તર પ્રદેશ  
 (2) ખુદીરામ બોઝ (b) મધ્ય પ્રદેશ  
 (3) રામપ્રસાદ બિસ્મિલ (c) મહારાષ્ટ્ર  
 (4) ચંદ્રશેખર આઝાદ (d) બંગાળ
- (A) 1 - a, 2 - b, 3 - c, 4 - d (B) 1 - d, 2 - a, 3 - b, 4 - c  
 (C) 1 - c, 2 - d, 3 - a, 4 - b (D) 1 - b, 2 - c, 3 - d, 4 - a

097. દેશના બનાવો અને સંબંધીત સમયગાળાની જોડીઓ પૈકી કઈ જોડી યોગ્ય નથી ?  
 (A) ચંપારણ સત્યાગ્રહ - 1917  
 (B) ખેડા સત્યાગ્રહ - 1917 થી 1918  
 (C) જલિયાવાલા બાગનો હત્યાકાંડ - 1919  
 (D) ચૌરીચૌરાનો બનાવ - 1925
098. ગોળમેજી પરિષદો કયા સ્થળોએ બોલાવેલ હતી ?  
 (A) દિલ્હી  
 (B) મુંબઈ  
 (C) લંડન  
 (D) લાહોર
099. હડપ્પીય સભ્યતાના સ્થાનો અને તેની વિશેષતા દર્શાવતી જોડીઓ પૈકી કઈ જોડી યોગ્ય નથી ?  
 (A) મોહે-જો-દડો - વિશાળ સ્નાનાગાર  
 (B) હડપ્પા - અનાજના કોઠારો  
 (C) ધોળાવીરા - વરસાદી પાણીનું પ્રબંધન  
 (D) કાલીબંગન - લોખંડના ઓજારો અને લાકડાનો ચરખો
100. ષડ્દર્શનના દર્શન અને તેના રચયિતાને યોગ્ય રીતે ગોઠવો.  
 (1) યોગ (a) મહર્ષિ ગૌતમ  
 (2) ન્યાય (b) મહર્ષિ પતંજલિ  
 (3) વૈશેષિક (c) મહર્ષિ કપિલ  
 (4) સાંખ્ય (d) મહર્ષિ કણ્ણદ  
 (A) 1 - b, 2 - c, 3 - a, 4 - d  
 (B) 1 - b, 2 - d, 3 - c, 4 - a  
 (C) 1 - b, 2 - a, 3 - d, 4 - c  
 (D) 1 - b, 2 - a, 3 - c, 4 - d
101. જૈન ધર્મ અનુસાર મહાવીર સ્વામી પૂર્વે કેટલા તીર્થંકરો થયા છે ?  
 (A) 21  
 (B) 22  
 (C) 23  
 (D) 24
102. નીચેના વાક્યો તપાસો અને કયા વાક્યો યોગ્ય છે ?  
 (1) ભારતના ધાર્મિક સાહિત્યમાં સૌથી જૂનું સાહિત્ય ઋગ્વેદ ગણાય છે.  
 (2) ઋગ્વેદ ઉપરાંત ત્રણ વેદોની રચના થયેલ છે.  
 (3) અગત્યના પ્રાચીન મહાકાવ્યોમાં રામાયણ અને મહાભારતની ગણના થાય છે.  
 (4) જૈન ધર્મના સાહિત્યમાં "ત્રિપિટક" સૌથી મહત્વનો ગ્રંથ છે.  
 (A) 1 અને 2  
 (B) 1, 2 અને 3  
 (C) 1, 2 અને 4  
 (D) 1, 2, 3 અને 4
103. હડપ્પીય સભ્યતાના સ્થળો અને સંબંધીત નદીઓના યોગ્ય જોડકા જોડો.  
 (1) કાલીબંગન (a) રાવી નદી  
 (2) હડપ્પા (b) સિંધુ નદી  
 (3) મોહે-જો-દડો (c) ભોગાવો નદી  
 (4) લોથલ (d) ઘઘ્ઘર-હાકરા નદી  
 (A) 1 - b, 2 - c, 3 - d, 4 - a  
 (B) 1 - c, 2 - d, 3 - a, 4 - b  
 (C) 1 - a, 2 - b, 3 - c, 4 - d  
 (D) 1 - d, 2 - a, 3 - b, 4 - c

104. નીચેના વાક્યો તપાસો :

- (1) “અર્થશાસ્ત્ર”ની રચના કૌટિલ્ય/ચાણક્ય દ્વારા કરવામાં આવેલ હતી. આ ગ્રંથ મૌર્યકાળના રાજ્યનુ સ્વરૂપ, રાજાના કર્તવ્યો વગેરે બાબતો પર પ્રકાશ પાડે છે.
  - (2) મેગેસ્થનિસ દ્વારા રચિત “ઈન્ડિકા” એ મૌર્ય શાસનના સિદ્ધાંતો, શાસક અધિકારીના કર્તવ્યો, નાગરિકોની ફરજ જેવી બાબતોની વિગતો દર્શાવે છે.
  - (3) “મુદ્રા રાક્ષસ”ના લેખક વિશાખા દત્ત હતા, તે મૌર્ય ઇતિહાસ જણાવે છે.
- (A) 1 અને 2 વાક્યો યોગ્ય છે. (B) 1 અને 3 વાક્યો યોગ્ય છે.  
(C) 1, 2 અને 3 વાક્યો યોગ્ય છે. (D) 1, 2 અને 3 વાક્યો યોગ્ય નથી.

105. નીચેના વાક્યો તપાસો :

- (1) ગુપ્તકાલીન ભારતમાં, અહિક્ષત્ર, મથુરા, પાટલીપુત્ર, કૌશમ્બી જેવા વાણિજ્યના અગત્યના કેન્દ્રો હતા.
  - (2) ગુપ્તકાળમાં મેઘદૂતમ, શાકુન્તલમ્ રઘુવંશ, કુમાર સંભવમ્ જેવા ગ્રંથોનું નિર્માણ થયેલ.
  - (3) ગુપ્તકાળમાં ખગોળ વિજ્ઞાન ક્ષેત્રમાં અમોલ ગ્રંથ “આર્ય ભટ્ટીયમ્”ની રચના થયેલ હતી.
  - (4) બિન્દુસાગર, સમ્રાટ અશોક જેવા મહાન રાજાઓ ગુપ્તકાળમાં થયેલ હતા.
- (A) 1 અને 2 વાક્યો યોગ્ય છે. (B) 1, 2 અને 3 વાક્યો યોગ્ય છે.  
(C) 1, 2 અને 4 વાક્યો યોગ્ય છે. (D) 2, 3 અને 4 વાક્યો યોગ્ય છે.

106. ગુજરાતમાં ફરજિયાત અને મફત પ્રાથમિક શિક્ષણ દાખલ કરનાર કયા રાજવી હતા ?

- (A) સયાજીરાવ ગાયકવાડ (B) ફત્તેસિંહરાવ ગાયકવાડ  
(C) લાખાજી રાજ (D) મેઘરાજસિંહ

107. નીચેના વાક્યો તપાસો :

- (1) પોર્ટુગીઝ નાવિક વાસ્કોડ-દ-ગામાએ ભારતના જળમાર્ગની શોધ કરી અને પોર્ટુગીઝ લોકો સૌ પ્રથમ વેપાર કરવા ભારત આવ્યા.
  - (2) 1608 માં અંગ્રેજ કંપનીનું વહાણ સૌ પ્રથમ સુરત આવેલ હતું.
  - (3) 1613 માં જહાંગીર બાદશાહની પરવાનગીથી સુરત ખાતે પ્રથમ કોઠી સ્થાપી.
  - (4) ભારતમાં સત્તા સ્થાપવા માટે કુલ 4 કર્ણાટક યુધ્ધો થયા હતા.
- (A) 1, 2, 3 અને 4 વાક્યો યોગ્ય છે. (B) 1, 2 અને 4 વાક્યો યોગ્ય છે.  
(C) 1, 2 અને 3 વાક્યો યોગ્ય છે. (D) 1, 3 અને 4 વાક્યો યોગ્ય છે.

108. નીચેના વાક્યો તપાસો :

- (1) સિરાજ-ઉલ-દૌલા અને કંપની વચ્ચે 1757 માં પ્લાસીનું યુધ્ધ થયેલ હતું.
  - (2) 1764 માં સંયુક્ત સેના અને કંપનીની સેના વચ્ચે બકસર ખાતે યુધ્ધ થયેલ હતું.
  - (3) ગવર્નર જનરલ ડેલહાઉસીએ “જીત, જપ્તી અને ખાલસા નીતિ”ના માધ્યમથી રાજ્ય વિસ્તાર કરેલ હતો.
  - (4) કંપનીના વહીવટને કારણે ખેડૂત પાયમાલ થયો અને કંપનીના હિતના ધંધા રોજગારનો વિકાસ થયો.
- (A) માત્ર 1, 2 અને 3 વાક્યો ખરાં છે. (B) માત્ર 2, 3 અને 4 વાક્યો ખરાં છે.  
(C) માત્ર 1, 3 અને 4 વાક્યો ખરાં છે. (D) 1, 2, 3 અને 4 વાક્યો ખરાં છે.

109. નીચેના પૈકી કઈ જોડી યોગ્ય છે ?
- (1) ઈ.સ. 1733 – કંપનીને બ્રિટિશ સંસદના નિયંત્રણમાં મુકવામાં આવી.  
 (2) ગવર્નર જનરલ કોર્નવોલિસ – ભારતીય સનદી સેવા અને ન્યાયતંત્રમાં ફેરફાર  
 (3) ઈ.સ. 1806 – કલકત્તા ખાતે ઈસ્ટ ઈન્ડિયન કોલેજની સ્થાપના  
 (4) ઈ.સ. 1856 – છેલ્લા ગવર્નર જનરલ તરીકે કેનિંગની કંપની દ્વારા નિમણૂક
- (A) 1, 2, 3 વાક્યોની જોડીઓ યોગ્ય છે. (B) 2, 3, 4 વાક્યોની જોડીઓ યોગ્ય છે.  
 (C) 1, 3, 4 વાક્યોની જોડીઓ યોગ્ય છે. (D) 1, 2, 3 અને 4 બધી જ જોડીઓ યોગ્ય છે.
110. 1857 સંગ્રામના બનાવના સ્થળો અને સંબંધીત જોડીઓ પૈકી કઈ જોડી યોગ્ય નથી ?
- (A) બરાકપુર લશ્કરી છાવણી (બંગાળ) – શ્રી મંગળ પાંડે  
 (B) કાનપુર – નાનાસાહેબ પેશ્વા  
 (C) લખનૌ – બેગમ હઝરત મહેલ  
 (D) જગદીશપુર (બિહાર) – જાગીરદાર રમણસીંહ
111. 1857 ના સંગ્રામમાં, ગુજરાતના નીચેના પૈકી કયા શહેરો સંગ્રામકેન્દ્રો ન હતા ?
- (A) અમદાવાદ, ગોધરા, સાબરકાંઠા (B) પાટણ, ખેરાલુ, વિજાપુર  
 (C) ખેડા, દ્વારકા, ઓખા (D) વડોદરા, ભાવનગર, ગોંડલ
112. આત્યંતિક રાષ્ટ્રવાદના કાર્યમાં નીચેના પૈકી કયા મહાનુભાવ જોડાયેલ ન હતા ?
- (A) શ્રી મોહનલાલ કામેશ્વર પંડ્યા, પૂજાભાઈ વકીલ અને વસંતરાવ વ્યાસ  
 (B) શ્રી શ્યામજી કૃષ્ણ વર્મા, મદનલાલ ધીંગરા  
 (C) સરદારસિંહ રાણા, મેંડમ ભિખોઈજી કામા  
 (D) રોમેશચંદ્ર દત્ત, દિનશા વાચ્છા, સુરેન્દ્રનાથ બેનરજી
113. મહાત્મા ગાંધીજી માટે કયું વાક્ય યોગ્ય નથી ?
- (A) તેઓનો જન્મ ઈ.સ. 1869 માં પોરબંદર ખાતે થયેલ હતો.  
 (B) ઈ.સ. 1916 માં કોચરબ (અમદાવાદ) ખાતે આશ્રમની સ્થાપના કરેલ હતી.  
 (C) ઈ.સ. 1917 માં ચંપારણ ખાતે પ્રથમ સત્યાગ્રહ શરૂ કરેલ.  
 (D) ઈ.સ. 1945 માં હિંદ છોડો ચળવળ શરૂ કરવામાં આવેલ હતી.
114. સરદાર વલ્લભભાઈના સંબંધમાં નીચેના પૈકી કયા વાક્યો યોગ્ય છે ?
- (1) તેઓનો જન્મ 31 ઓક્ટોબર 1875 ના રોજ થયેલ હતો.  
 (2) તેઓના જન્મ દિવસને “રાષ્ટ્રીય એકતા દિવસ” તરીકે ઉજવાય છે.  
 (3) તેઓએ તેમની વકીલાત વડોદરા, મુંબઈ ખાતે કરેલ હતી.  
 (4) ઈ.સ. 1928 માં “બારડોલી સત્યાગ્રહ”ને કારણે “સરદાર”નું બિરૂદ મળેલ હતું.
- (A) 1, 2 અને 4 (B) 1, 3 અને 4  
 (C) 1, 2 અને 3 (D) 2, 3 અને 4



115. નીચેના વાક્યો તપાસો :
- (1) ઈ.સ. 1942 થી 1945 દરમ્યાન સરદાર પટેલને અહમદનગર જેલમાં બંદી બનાવેલ હતા.
  - (2) ઈ.સ. 1931 માં કરાંચી ખાતેના કોંગ્રેસના સંમેલનના તેઓ અધ્યક્ષ હતા.
  - (3) તેઓ સ્વતંત્ર ભારતના પ્રથમ ઉપ પ્રધાનમંત્રી હતા.
  - (4) તેઓએ 565 રજવાડાઓને ભારતમાં ભેળવેલ હતા.
  - (5) જૂનાગઢ અને હૈદરાબાદને લશ્કરી તાકાતથી ભારતમાં ભેળવેલ હતા.
- (A) 1, 2, 3, 4 અને 5 વાક્યો યોગ્ય છે. (B) 1, 2, 3 અને 4 વાક્યો યોગ્ય છે.  
(C) 2, 3, 4 અને 5 વાક્યો યોગ્ય છે. (D) 1, 3, 4 અને 5 વાક્યો યોગ્ય છે.
116. નીચેના વાક્યો તપાસો.
- (1) “રાજ્ય પુનરચના પંચ”ની સ્થાપના માન. ન્યાયમૂર્તિ ફઝલઅલીના અધ્યક્ષ પદે કરવામાં આવેલી હતી.
  - (2) બોમ્બે પ્રાંતમાંથી ગુજરાતી અને મરાઠી ભાષાના ધોરણે રાજ્ય બનાવવા આંદોલન શરૂ થયેલ
  - (3) મહાગુજરાત ચળવળના મુખ્ય રાહબર ઈન્દુલાલ યાજ્ઞિક હતા.
  - (4) 1 મે, 1964 ના રોજ પૂજ્ય રવિશંકર મહારાજના હસ્તે ગુજરાત રાજ્યનું ઉદ્ઘાટન થયેલ હતું.
- (A) 1, 2 અને 4 વાક્યો યોગ્ય છે. (B) 1, 2 અને 3 વાક્યો યોગ્ય છે.  
(C) 1, 3 અને 4 વાક્યો યોગ્ય છે. (D) 1, 2, 3 અને 4 વાક્યો યોગ્ય છે.
117. નીચેના વાક્યો પૈકી કયા વાક્યો યોગ્ય છે ?
- (1) ગોંડલ રાજ્યમાં કન્યા શિક્ષણ, ગ્રામ્ય સ્તર સુધી ફરજિયાત હતું.
  - (2) “ભગવદ્ગોમંડલ”ની રચના ભગવતસિંહજી મહારાજના સમયમાં કરવામાં આવેલ હતી.
  - (3) કચ્છમાં જાડેજા વંશે લગભગ 300 વર્ષ સુધી રાજ્ય કરેલ હતું.
  - (4) નવા નગરના રાજા “જામ રણજી”ના નામ પરથી રણજી ટ્રોફીનું નામ પડેલ.
- (A) 1, 2 અને 3 વાક્યો યોગ્ય છે. (B) 1, 2 અને 4 વાક્યો યોગ્ય છે.  
(C) 2, 3 અને 4 વાક્યો યોગ્ય છે. (D) 1, 2, 3 અને 4 વાક્યો યોગ્ય છે.
118. .... રજવાડા સામે કરાયેલી “પોલીસ કાર્યવાહી”ને ઓપરેશન પોલો (Polo) નામ આપેલ હતું.
- (A) જૂનાગઢ (B) હૈદરાબાદ  
(C) ત્રાવણકોર (D) કાશ્મીર
119. કાકોરી લૂંટ કેસ (Kakori Robbery Case)માં, ભારતના કયા ક્રાંતિકારીને કેદ કરી શકાયા ન હતા ?
- (A) ચંદ્રશેખર આઝાદ (B) કુન્દનલાલ  
(C) રાજેન્દ્ર લહિરી (D) અશ્ફાકુલ્લાહ ખાન
120. દેશની પેઇન્ટીંગ (Painting) શૈલીઓ અને તેના પ્રદેશો દર્શાવતી જોડીઓ પૈકી કઈ જોડી યોગ્ય નથી ?
- (A) પહાડ પેઇન્ટીંગ (Phad) – ઉત્તર પ્રદેશ (B) મધુબની પેઇન્ટીંગ – બિહાર  
(C) પટ્ટચિત્ર પેઇન્ટીંગ – ઓડીસા (D) પીઠોરા પેઇન્ટીંગ – ગુજરાત
121. ભારત દેશમાં આર્થિક નીતિમાં પરિવર્તન કરીને આર્થિક સુધારાઓ કયા વર્ષથી અમલમાં મૂકવામાં આવેલ હતા ?
- (A) 1947 (B) 1951  
(C) 1980 (D) 1991
122. “ખાધવાળા અંદાજપત્ર” બાબતમાં નીચેના પૈકી કયું કથન યોગ્ય નથી ?
- (A) આ અંદાજપત્રને વિકાસલક્ષી અને કલ્યાણલક્ષી ગણવામાં આવે છે.  
(B) આને કારણે રોજગારીનું વધારાનું સર્જન થાય છે અને આર્થિક વૃદ્ધિ વધે છે.  
(C) દેશ ઉપર દેવાનો બોજ વધે છે.  
(D) પ્રજા ઉપર વધારાના કરવેરા નાખવામાં આવે છે અને વધારાનું ધન ખેંચી શકાય છે.

123. ભારતિય રોબુસ્ટા (Indian Robusta) શું છે ?  
 (A) ભારતમાં ઉત્પન્ન થનાર રબ્બરનો પ્રકાર  
 (B) ભારતમાં ઉત્પન્ન થનાર અને નિકાસ થનાર કોફીનો પ્રકાર  
 (C) મધ્ય ભારતમાં ઉત્પન્ન થનાર તમાકુનો પ્રકાર  
 (D) જ્યુટની ઉચ્ચ ગુણવત્તા ધરાવતો પ્રકાર
124. સરકાર અથવા રીઝર્વ બેન્ક દ્વારા, કુગાવાને અંકુશમાં લેવા જે પગલા લેવાય છે, તેમાં નીચેના પૈકી કોનો સમાવશ થતો નથી ?  
 (A) મોનેટરી પોલીસી (Monetary Policy) (નાણાકીય નીતિ)  
 (B) ફીક્સલ પોલીસી (Fiscal Policy) (રાજકોષીય નીતિ)  
 (C) નાણાકિય સમાવેશ (Financial Inclusion)  
 (D) કિંમત ઉપર અંકુશ (Price control)
125. ઓપન માર્કેટ પોલીસી (Open Market Policy) એ શાનો ભાગ છે ?  
 (A) ક્રેડિટ નીતિ (Credit Policy)  
 (B) ડેબિટ નીતિ (Debit Policy)  
 (C) થાપણ નીતિ (Deposit Policy)  
 (D) પરદેશ નીતિ (Foreign Policy)
126. બેરોજગારીના મુખ્યત્વે કયા પ્રકાર છે ?  
 (1) સંપૂર્ણ બેરોજગારી  
 (2) અર્ધ બેરોજગારી, પ્રચ્છન્ન બેરોજગારી  
 (3) ચકીય બેરોજગારી, ઘર્ષણજન્ય બેરોજગારી  
 (4) સ્વ સ્વીકૃત બેરોજગારી  
 (A) 1, 2 અને 4  
 (B) 1, 2 અને 3  
 (C) 2, 3 અને 4  
 (D) 1, 2, 3 અને 4
127. માનવ વિકાસ સૂચકાંક (Human Development Index) માં સને 2019 ના અહેવાલ મુજબ ભારત કયા સ્થાન ઉપર છે ?  
 (A) 127  
 (B) 128  
 (C) 129  
 (D) 130
128. વર્લ્ડ હેપીનેસ ઈન્ડેક્સ (World Happiness Index) - 2019 મુજબ પ્રથમ અને બીજા નંબર ઉપર કયા દેશો છે ?  
 (A) ફીનલેન્ડ અને ડેનમાર્ક  
 (B) ડેનમાર્ક અને નોર્વે  
 (C) સ્વીડન અને કેનેડા  
 (D) કેનેડા અને જર્મની
129. “ભારત જ્ઞાન કેન્દ્ર (India Knowledge Hub)” કઈ સંસ્થા દ્વારા શરૂ કરવામાં આવેલ છે ?  
 (A) નીતિ આયોગ  
 (B) આગરકર રિસર્ચ ઈન્સ્ટીટ્યુટ - પૂણે  
 (C) ભારતીય તારાભૌતિકી સંસ્થા  
 (D) રાષ્ટ્રીય નવપ્રવર્તન પ્રતિષ્ઠાન
130. ભારતની પ્રથમ પંચવાર્ષિક યોજના અને બીજી પંચવાર્ષિક યોજનાઓમાં મુખ્યત્વે કઈ બાબત ઉપર ખાસ ધ્યાન આપવામાં આવેલ હતું ?  
 પ્રથમ યોજના  
 બીજી યોજના  
 (A) ખેતીનો વિકાસ  
 અને મૂળભૂત અને પાયાના ઉદ્યોગોનો વિકાસ  
 (B) મૂળભૂત ઉદ્યોગોનો વિકાસ  
 અને ખેતીનો વિકાસ  
 (C) કાયદો, વ્યવસ્થા માટે મહત્તમ નાણાકિય ફાળવણી  
 અને નિકાસ પ્રોત્સાહન અને આયાતમાં નિયંત્રણ  
 (D) નિકાસ પ્રોત્સાહન અને આયાતમાં નિયંત્રણ  
 અને કાયદો વ્યવસ્થા માટે મહત્તમ નાણાકિય ફાળવણી

131. ગુજરાતના સને 2020-21 ના બજેટમાં કયા સેક્ટરમાં અનુક્રમે પ્રથમ અને બીજા ક્રમે ખર્ચનો અંદાજ કરવામાં આવેલ છે ?  
(A) ઉર્જા અને વાહનવ્યવહાર (B) શિક્ષણ અને ઉર્જા  
(C) ખેતી અને ગ્રામ વિકાસ (D) શિક્ષણ અને પાણી પૂરવઠો, સ્વચ્છતા, શહેરી વિકાસ વગેરે
132. વિશ્વમાં “Ease of doing business” ક્ષેત્રમાં ભારતનો આખરી અહેવાલ (2019 માં બહાર પાડવામાં આવેલ છે.) મુજબ કયો ક્રમ છે અને ભારત દેશમાં ગુજરાતનો આખરી અહેવાલ મુજબ કયો ક્રમ છે ?  
(A) 63 અને 10 (B) 129 અને 3  
(C) 135 અને 2 (D) 100 અને 5
133. “આત્મનિર્ભર ભારત અભિયાન” યોજના અંગે નીચેના પૈકી કયા વાક્યો યોગ્ય છે ?  
(1) આ યોજના કેન્દ્ર સરકાર દ્વારા શરૂ કરવામાં આવેલી છે.  
(2) ભારતનો દરેક નાગરિક આ યોજનાનો લાભ લઈ શકે છે.  
(3) આ યોજના 1 એપ્રિલ 2020 થી શરૂ કરવામાં આવેલ છે.  
(4) કુલ પેકેજની રકમ રૂ. વીસ લાખ કરોડ છે.  
(A) 1, 2 અને 3 (B) 2, 3 અને 4  
(C) 1, 3 અને 4 (D) 1, 2 અને 4
134. ઈન્સ્યુરન્સ રેગ્યુલેટરી એન્ડ ડેવલપમેન્ટ ઓથોરીટી (IRDA) બાબતે નીચેના પૈકી કયુ વાક્ય યોગ્ય નથી ?  
(A) વિમા ક્ષેત્રના નિયંત્રણ, વિકાસ હેતુથી (IRDA) ની રચના કરેલ છે.  
(B) તેનુ મુખ્ય મથક હૈદરાબાદ છે. અધ્યક્ષ ઉપરાંત પાંચ પૂર્ણ સમયના અને ચાર અંશ:કાલિક (part time) સભ્યો છે.  
(C) તેની રચના સને 2010 માં કરવામાં આવેલ હતી ?  
(D) વિમા ક્ષેત્ર સાથે સંકળાયેલ દરેક કંપની (IRDA) સાથે નોંધણી કરાવે છે.
135. ધી યારલંગ ઝાંગબો નદી (The Yarlung Zangbo River) ભારતમાં કયા નામથી ઓળખાય છે ?  
(A) ગંગા (B) બ્રહ્મપુત્રા  
(C) મહાનદી (D) સીંધુ
136. નીચેના વાક્યો તપાસો :  
(1) ભારતમાં હિમાલયની પર્વત માળાના માઉન્ટ ગોડવીન ઓસ્ટિન (K), માઉન્ટ એવરેસ્ટ, કાંચન જંઘા, નંદાદેવી જેવા શિખરો આવેલ છે.  
(2) ઉત્તરનો મેદાન પ્રદેશ, હિમાલયમાંથી નીકળતી નદીઓના કાંપથી બનેલ છે. સમતલ મેદાનોને કારણે સૌથી ગીચ વસ્તીનો આ પ્રદેશ છે.  
(A) 1 અને 2 બંને વાક્યો યોગ્ય છે. (B) 1 અને 2 બંને વાક્યો યોગ્ય નથી.  
(C) માત્ર 2 વાક્ય યોગ્ય છે. (D) માત્ર 1 વાક્ય યોગ્ય છે.
137. નીચેના વાક્યો તપાસો :  
(1) પૃથ્વી પોતાની કાલ્પનિક ધરી ઉપર ફરીને એક ચક્ર પૂર્ણ કરે છે જેના માટે લગભગ 24 કલાકનો સમય જાય છે. આને પરિભ્રમણ કહે છે.  
(2) પૃથ્વી પોતાની કાલ્પનિક ધરી ઉપર ફરતા ફરતા સૂર્યની ફરતે પ્રદક્ષિણા કરે છે અને તે માટે લગભગ 365 દિવસ લાગે છે. આને પરિક્રમણ કહે છે.  
(A) 1 અને 2 બંને વાક્યો યોગ્ય છે. (B) માત્ર 1 વાક્ય યોગ્ય છે.  
(C) માત્ર 2 વાક્ય યોગ્ય છે. (D) 1 અને 2 બંને વાક્યો યોગ્ય નથી

- 138: નીચેના વાક્યો તપાસો.  
 (1) ઈંગ્લેન્ડના ગ્રિનિચ પરથી 0° રેખાંશને ગ્રિનિચ રેખા કહે છે અને પૃથ્વીના પૂર્વ અને પશ્ચિમ એમ બે કાલ્પનિક ભાગ પડે છે.  
 (2) ભારતમાં 82.5° પૂ. રેખાંશ અલ્હાબાદ પાસેથી પસાર થાય છે અને ભારતનો 'પ્રમાણ સમય' અલ્હાબાદના સમયને ધ્યાને રાખીને નક્કી કરવામાં આવે છે.  
 (A) 1 અને 2 બંને વાક્યો યોગ્ય નથી  
 (B) માત્ર 1 યોગ્ય છે.  
 (C) માત્ર 2 યોગ્ય છે.  
 (D) 1 અને 2 બંને વાક્યો યોગ્ય નથી.
139. 2011ના સેન્સસના પ્રમાણે, ગુજરાત રાજ્ય માટે નીચે પૈકી કયું વાક્ય યોગ્ય નથી ?  
 (A) વસ્તીની ઘનતા (Density) 308 છે  
 (B) સેક્સ રેશીયો (Sex Ratio) 919 છે  
 (C) સાક્ષરતા દર લગભગ 68 છે  
 (D) કુલ વસ્તીના પ્રમાણમાં 42.6% લોકો શહેરોમાં રહે છે.
140. 2011ના સેન્સસ મુજબ, ગુજરાત રાજ્યમાં કુલ વસ્તીના પ્રમાણમાં બાળકોની વસ્તી (Children Population), કયા જિલ્લામાં સૌથી ઓછું છે ?  
 (A) ડાંગ  
 (B) નવસારી  
 (C) દાહોદ  
 (D) સુરત
141. ગુજરાતના ડેમ અને જીલ્લાને યોગ્ય રીતે ગોઠવો.  
 (1) દાતીવાડા ડેમ  
 (a) સુરેન્દ્રનગર  
 (2) ધરોઈ ડેમ  
 (b) વડોદરા  
 (3) ધોળી ધજા ડેમ  
 (c) બનાસકાંઠા  
 (4) સુખી ડેમ  
 (d) મહેસાણા  
 (A) 1 - a, 2 - b, 3 - c, 4 - d  
 (B) 1 - d, 2 - a, 3 - b, 4 - c  
 (C) 1 - c, 2 - d, 3 - a, 4 - b  
 (D) 1 - b, 2 - c, 3 - d, 4 - a
142. પ્રવાસન સ્થળો અને સંબંધિત રાજ્યોની જોડીઓ પૈકી કઈ જોડી યોગ્ય નથી ?  
 (A) મનાલી (Manali) - હિમાચલ પ્રદેશ  
 (B) ઉટ્ટી (Ooty) - તામીલનાડુ  
 (C) દાર્જીલીંગ (Darjeeling) - કેરલા  
 (D) મસુરી (Mussoorie) - ઉત્તરાખંડ
143. સૌર પરિવારના ગ્રહો અંગે નીચેના પૈકી કયું વાક્ય યોગ્ય નથી ?  
 (A) બુધ ગ્રહ કદમાં સૌથી નાનો અને સૂર્યથી સૌથી નજીકનો ગ્રહ છે.  
 (B) શુક્ર ગ્રહ સૌથી તેજસ્વી છે અને પશ્ચિમથી પૂર્વ પરિક્રમણ કરે છે.  
 (C) પૃથ્વી મંગળ અને ગુરૂ વચ્ચેનો ગ્રહ છે.  
 (D) આંતરરાષ્ટ્રી ખગોળ પરિષદના નિર્ણય મુજબ હાલમાં આઠ ગ્રહો છે.
144. નીચેના વાક્યો તપાસો :  
 (1) ભારત દેશનો લગભગ 45 % ભાગ મેદાની છે અને 50% ભાગ પર્વતીય છે  
 (2) ભારતની આબોહવા મોસમી છે.  
 (3) જમીન એ ખડકોના ખવાણની ફલિત પેદાશ છે. ખડકોના ખવાણમાં તાપમાન, વરસાદ, હવા, વનસ્પતિ વગેરે બાબતો અગત્યનો ભાગ ભજવે છે.  
 (4) સામાન્ય રીતે જમીનને 7 પ્રકારમાં વહેંચવામાં આવે છે.  
 (A) 1 અને 2 વાક્યો યોગ્ય છે  
 (B) 2 અને 3 વાક્યો યોગ્ય છે  
 (C) 3 અને 4 વાક્યો યોગ્ય છે  
 (D) 1 અને 4 વાક્યો યોગ્ય છે

145. નીચેના વાક્યો તપાસો :
- (1) 21 જુને કર્કવૃત્ત અને 22 ડિસેમ્બરે મકરવૃત્ત ઉપર સૂર્ય કિરણો બરાબર સીધા પડે છે.  
(2) 21 જુન લાંબો દિવસ અને 22 ડિસેમ્બર ટૂંકો દિવસ હોય છે.  
(3) નોર્વેમાં સામાન્ય રીતે મે મહિનાના મધ્યથી જુલાઈના અંત સુધી સૂર્ય આથમતો નથી.  
(4) પૃથ્વી પરની કાલ્પનિક આડી રેખાને અક્ષાંશ અને ઉભી રેખાને રેખાંશ કહે છે.
- (A) 1, 2, 3 અને 4 વાક્યો ખરા છે (B) 1, 2 અને 3 વાક્યો ખરા છે  
(C) 1, 2 અને 4 વાક્યો ખરા છે (D) 2, 3 અને 4 વાક્યો ખરા છે
146. નીચેના પૈકી કયો તારો (Star) પૃથ્વીની સૌથી નજીક છે ?
- (A) સૂર્ય - Sun (B) પોલારીસ - Polaris  
(C) આલ્ફા સેન્ટુરી - Alpha Centauri (D) સીરીસ - Sirius
147. જ્યારે બેરોમીટરમાં અચાનક ઘટાડો થાય છે ત્યારે કઈ બાબતની શક્યતા રહેલ છે ?
- (A) શાંત હવામાન - Calm Weather  
(B) તોફાની હવામાન - Stormy  
(C) ઠંડુ અને સુકું હવામાન - Cold and dry weather  
(D) ગરમ, સૂર્ય પ્રકાશ વાળું હવામાન - Hot and sunny weather
148. અલમતી બંધ (Alamatti Dam) કઈ નદી ઉપર બાંધવામાં આવેલ છે ? આ બંધને “લાલ બહાદુર શાસ્ત્રી બંધ” પણ કહે છે.
- (A) ગોદાવરી (B) કાવેરી  
(C) કૃષ્ણા (D) મહાનદી
149. ગુજરાતના કયા સમુદ્ર તટ (Sea-beach) ને Blue Flag (વાદળી ફ્લેગ) નો દરજ્જો આપવામાં આવેલ છે ?
- (A) ભોગાવે (B) ઘોઘલા  
(C) શીવરાજપુર (D) મીરામાર
150. પંજાબ અને હરિયાણા રાજ્યોમાં જમીનની ગુણવત્તા ઘટવાનું મુખ્ય કારણ શું છે ?
- (A) જંગલોનો વિનાશ (B) જમીનનું ધોવાણ  
(C) વધારે પ્રમાણમાં પાકોનું વાવેતર (D) ક્ષાર અને ખેતરોમાં પાણીને ભરાવો