

- 1 ભારતરત્ન પ્રોફેસર ને એનર્જી કન્વિયર એવોર્ડ 2020 પ્રાપ્ત થયો છે.
 (A) વેંકટેશ સ્વામી ઐયર (B) ચિંતામણી નાગેસ રામચંદ્ર રાવ
 (C) આચુતોષ રાવલ (D) નાનાજી અમૃતરાવ દેશમુખ

- 2 નીચે મુજબની નિશાની શું બતાવે છે ?



- (A) ડાબી બાજુ વળવું (B) જમણી બાજુ ચીપિયા જેવો વળાંક છે
 (C) જમણી બાજુ સર્કલ છે (D) જમણી બાજુ ચઢાણ અને ઢાળ છે

- 3 નીચે મુજબની નિશાની શું બતાવે છે ?



- (A) આ પેકી એક પણ નહીં (B) સાઈકલ માટે પ્રવેશ બંધ છે
 (C) સાઈકલ કોસિંગ (D) સાઈકલ કોસિંગની મનાઈ છે

- 4 ગુજરાત રાજ્ય તેની સ્થાપના અગાઉ કયા રાજ્ય સાથે જોડાયેલું હતું ?

- (A) મહારાષ્ટ્ર (B) ઉત્તર પ્રદેશ
 (C) મધ્ય પ્રદેશ (D) રાજસ્થાન

- 5 જો '-' એટલે '+', '+' એટલે 'x', 'x' એટલે '-' અને 'x' એટલે '+' તો $18 - 3 + 2 \times 8 + 6 =$ _____

- (A) 16 (B) 31
 (C) 18 (D) 14

- 6 સોમનાથ-પાટણ પાસે ત્રિવેણી સંગમની નદીઓમાં કોનો સમાવેશ થતો નથી ?

- (A) હીરણ (B) માનસી
 (C) કપિલા (D) સરસ્વતી


- 7 વાયુ પ્રદૂષણને ઘટાડવા અને પર્યાવરણ જળવાઈ રહે તેવા હેતુસર ગુજરાતમાં ભૂતપૂર્વ મુખ્યમંત્રીશ્રી વિજય રૂપાણીએ કઈ પોલિસી જાહેર કરી છે ?

- (A) રોડ વિકલ પોલિસી-2021 (B) ગુજરાત રાજ્ય વિકલ પોલિસી-2021
 (C) મોટર વિકલ પોલિસી-2021 (D) ઈલેક્ટ્રિક વિકલ પોલિસી-2021

8 શ્રેણીમાં કયું પદ ખોટું છે તે જણાવો : 5, 8, 14, 26, 52, 98

- (A) આ પૈકી એક પણ નહીં (B) 98
(C) 26 (D) 14

9 નીચે મુજબની નિશાની શું બતાવે છે ?



- (A) આગળ પ્રોસ્ટ-ઓફિસ છે (B) આગળ વજનકાંઠો છે
(C) રેલવે કોસિંગ છે (D) આગળ બેરિયર છે

10 કયું જોડકું ખોટું છે ?

- (A) ગ્રાયન લારા - ન્યૂઝીલેન્ડ (B) શેન વોર્ન - ઓસ્ટ્રેલિયા
(C) બોરિસ બેકર - જર્મની (D) સુનિલ ગાવસ્કર - ભારત

11 ગુજરાતનો કયો જિલ્લો સોધી લાંબો દરિયાકિનારો પરાવે છે ?

- (A) કચ્છ (B) જૂનાગઢ
(C) દેવભૂમિ દ્વારકા (D) જામનગર

12 ભારતના 'માર્ગ પરિવહન અને રાજમાર્ગ મંત્રી' કોણ છે ?

- (A) આ પૈકી એક પણ નહીં (B) શ્રી નીતીન ગડકરી
(C) શ્રી પ્રહલાદ જોશી (D) શ્રી ધર્મેન્દ્ર પ્રધાન

13 'ક્રિકેટ' કઈ રમતનું સંચાલન કરે છે ?

- (A) હોકી (B) ફુટબોલ
(C) બેડમિન્ટન (D) બાસ્કેટબોલ

14 'ક્રિકેટ' કઈ રમત સાથે સંકળાયેલ શબ્દ છે ?

- (A) કેરમ (B) બિલિયર્ડ્સ
(C) ક્રિકેટ (D) ટેનિસ

15 ખાલી જગ્યામાં યોગ્ય વિકલ્પ મૂકો : 1, 9, 25, 49, 64

- (A) 72 (B) 100
(C) 81 (D) 64

86HDR21_06]

3

[Contd...

- 16 રાત્રી દરમ્યાન જ્યારે રોડની સાઈડમાં વાહન ધોભાવો ત્યારે
- (A) વાહનના કાચ ખુલ્લા કરી ડ્રાઈવરે માત્ર હાથ ગાડી બહાર ઊંચો કરી બેસવું જોઈએ
 (B) માત્ર ડ્રાઈવર ગાડીમાં બેઠેલો હોવો જોઈએ
 (C) વાહનની પાર્કિંગ સાઈટ ચાલુ કરવી જોઈએ
 (D) વાહનને હોક કરવું

- 17 શ્રી બળવંતરાય મહેતા ગુજરાતના મુખ્યમંત્રી હતા.
- (A) ચોથા
 (B) ત્રીજા
 (C) બીજા
 (D) પ્રથમ

- 18 નીચેનામાંથી કયા રાજ્યની સીમા ગુજરાત રાજ્યને અડતી નથી ?
- (A) છત્તીસગઢ
 (B) મધ્ય પ્રદેશ
 (C) મહારાષ્ટ્ર
 (D) રાજસ્થાન

- 19 નીચે મુજબની નિશાની શું બતાવે છે ?



- (A) જમણી બાજુ સાઈડ રોડ છે
 (B) ડાબી બાજુ સાઈડ રોડ છે
 (C) જમણી બાજુ 'વાય' કોસિંગ છે
 (D) ડાબી બાજુ 'વાય' કોસિંગ છે
- 20 'ભારતના માનવેસ્ટર' તરીકે ગુજરાતનું કયું શહેર પ્રસિદ્ધ હતું ?
- (A) રાજકોટ
 (B) ભાવનગર
 (C) સુરત
 (D) અમદાવાદ

- 21 ભારતના 'રક્ષામંત્રી' કોણ છે ?
- (A) આ પૈકી કોઈ પણ નહીં
 (B) શ્રી રામચંદ્ર પ્રસાદ
 (C) શ્રી રાજનાથ સિંઘ
 (D) શ્રી એસ. જયશંકર

- 22 નીચે મુજબની નિશાની શું બતાવે છે ?



- (A) આગળ પાઈ છે
 (B) બંને દિશામાં જવું મનાઈ છે
 (C) એકમાર્ગી રસ્તો
 (D) સીધા જાવ

- 23 ગુજરાતનો સ્થાપના દિન છે.
 (A) 1 ઓગસ્ટ, 1960 (B) 1 મે, 1960
 (C) 1 જૂન, 1960 (D) 1 જુલાઈ, 1960

- 24 'વ્યષ્ટિ' શબ્દનો આપેલ વિકલ્પોમાંથી યોગ્ય વિરુદ્ધાર્થી શોધો.
 (A) વિગ્રહ (B) દોષિત
 (C) સમવ્યષ્ટિ (D) સમષ્ટિ

- 25 ઠીકાઈ ડેમ કઈ નદી ઉપર છે ?
 (A) આ પેકી એક પણ નહીં (B) નર્મદા
 (C) મહી (D) સરસ્વતી

- 26 નીચે મુજબની નિશાની શું બતાવે છે ?



- (A) આ પેકી એક પણ નહીં (B) આગળ દરિયા કિનારો છે
 (C) હોડી સેવા છે (D) હોડી સેવા બંધ છે

- 27 ગુજરાતના 'રાષ્ટ્રીય શાયર'નું બિરુદ કોને આપવામાં આવ્યું છે ?
 (A) ઝવેરચંદ મેઘાણીને (B) ઉમાશંકર જોશીને
 (C) સુંદરમુને (D) પ્વનિલ પારેખને

- 28 ભારતીય કોરિયોગ્રાફર વર્લ્ડ કોરિયોગ્રાફી એવોર્ડ 2020 જીતનારા પ્રથમ ભારતીય બની ગયા છે.
 (A) સુરેશ મુકુંદ (B) વૈભવી મર્યન્ટ
 (C) પ્રભુ દેવા (D) કરાહ ખાન


- 29 મહાત્મા ગાંધીજીએ કઈ શિક્ષણ સંસ્થા સ્થાપી હતી ?
 (A) ગૂજરાત વિદ્યાપીઠ (B) ગૂજરાત યુનિવર્સિટી
 (C) લોકભારતી વિદ્યાપીઠ (D) સંસ્કૃત યુનિવર્સિટી

- 30 નીચે મુજબની નિશાની શું બતાવે છે ?



- (A) આ પેકી એક પણ નહીં (B) આગળ હોસ્પિટલ છે
 (C) નો પાર્કિંગ (D) વાહન ધોબો

31 નીચે મુજબની નિશાની શું બતાવે છે ?



- (A) ડાબી બાજુ વળાંક છે
(C) ડાબી બાજુ વળાંક નથી

- (B) આગળ પુલ છે
(D) સાર્થક રોડ આગળથી બંધ છે

32 દિવાળીબેન ભીલનું નામ કયા સંગીત સાથે જોડવામાં આવે છે ?

- (A) સુગમ સંગીત
(C) શાસ્ત્રીય સંગીત

- (B) કિલ્લી સંગીત
(D) લોકસંગીત

33 નીચે મુજબની નિશાની શું બતાવે છે ?



- (A) આ પેકી એક પસા નહીં
(C) વાંકો ચૂકો રોડ

- (B) ઘાટ રોડ
(D) ખાડા ટેકરાવાળો કે સ્પીડ બ્રેકર

34 નીચે મુજબની નિશાની શું બતાવે છે ?



- (A) વાહનમાં પરુ લઈ જવાની છૂટ છે
(C) રસ્તા ઉપર પરુની શક્યતા છે

- (B) વાહનમાં પરુ લઈ જવાની મનાઈ છે
(D) પરુ માટે મનાઈ છે

35 રાષ્ટ્રિય રમત દિવસ ક્યારે ઉજવાય છે ?

- (A) 21 ઓગસ્ટ
(C) 29 ઓગસ્ટ

- (B) 13 સપ્ટેમ્બર
(D) 17 જુલાઈ

36 ખાનગી વાહનની નંબર પ્લેટ કેવી હોય છે ?

- (A) સફેદ રંગની પ્લેટ ઉપર પીળા અક્ષર
(C) પીળા રંગની પ્લેટ ઉપર કાળા અક્ષર

- (B) સફેદ રંગની પ્લેટ ઉપર કાળા અક્ષર
(D) કાળા રંગની પ્લેટ ઉપર પીળા અક્ષર

- 37 માનસી વિદ્યાર્થીઓની એક કતારમાં ઊભી છે, જો બંને બાજુથી મળતા તેનો ક્રમાંક 33 આવતો હોય તો કુલ કેટલા વિદ્યાર્થીઓ કતારમાં ઊભા હશે ?
- (A) 68 (B) 67
(C) 66 (D) 65

- 38 આપેલ રૂઢિપ્રયોગનો સાચો અર્થ વિકલ્પમાંથી શોધો :
'આંખ ફાટી જવી'
- (A) આ પેકી એક પણ નહીં (B) આંખ આગળ અંધારું છવાઈ જવું
(C) ગુસ્સે થવું (D) ખૂબ નવાઈ પામવું

- 39 પ્રખ્યાત રમતવીર ભાનગંદજીની શ્રેષ્ઠતા કઈ રમતમાં સિદ્ધ થયેલી હતી ?
- (A) ચેસ (B) હોકી
(C) ખોખો (D) ક્રિકેટ

- 40 નીચે મુજબની નિશાની શું બતાવે છે ?

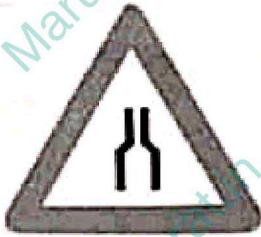


- (A) આગળ રોડ ઉપર ટેકરો છે (B) આગળ કચરો પડેલો છે
(C) બાજકો રમે છે (D) રસ્તા ઉપર માણસ કામ કરે છે

- 41 ભારતમાં 'ગ્રાઈવર્સ ડે' તરીકે કયો દિવસ મનાવવામાં આવે છે ?

- (A) 17 મે (B) 17 સપ્ટેમ્બર
(C) 17 ઓગસ્ટ (D) 17 જુલાઈ

- 42 નીચે મુજબની નિશાની શું બતાવે છે ?



- (A) આગળ બંને બાજુ રસ્તા છે (B) આગળ 'વાપ' રસ્તો છે
(C) આગળ સાંકડો રસ્તો છે (D) આગળ સાંકડું નાળું છે

43 ખાલી જગ્યામાં યોગ્ય વિશેષણ મૂકો :

માથે હેતુ

- (A) કાળ
(C) તાલી

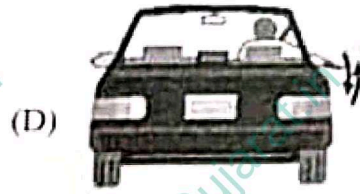

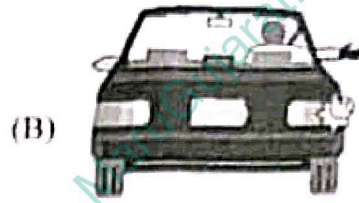
- (B) કાળી
(D) કારી

44 નેશનલ એક્સપ્રેસ વે માટે કયા બે સ્થળોને જોડે છે ?

- (A) અમદાવાદ - વડોદરા
(C) અમદાવાદ - પાલનપુર

- (B) વડોદરા - સુરત
(D) અમદાવાદ - સુરત

45 'પોતાનું ચીસું પીમું કરવાનો ઈરાદો છે' તે બતાવવા માટેની સાચી નિશાની કઈ છે ?



46 શ્રીકૃષ્ણની ખાળમિત્ર સુદામા ક્યાંના વતની હતા ?

- (A) રાજકોટ
(C) મધુરા

- (B) ભાવનગર
(D) પોરબંદર

47 નીચે મુજબની નિશાની શું બતાવે છે ?



(A) મોટરિકાર માટે મનાઈ છે

(B) પથ્થરવાળો કાચો રસ્તો છે

(C) વાહન લપસી જાય તેવો ચીકણો રસ્તો છે

(D) વાહન નીચે પાણી છે

48 નીચે મુજબની નિશાની શું બતાવે છે ?



(A) જમણી બાજુ પાર્કિંગ માન્ય નથી

(B) ડાબી બાજુ ઓવરટેક કરવાની મનાઈ

(C) પુર્ન લેવાની મનાઈ

(D) જમણી બાજુ વળવાની મનાઈ છે

49. આપેલ વિકલ્પોમાંથી સાચી જોડણી પરાવતો શબ્દ શોધો.
(A) નિષ્ઠા (B) નિષ્ઠા
(C) નીરક્ષા (D) નીરક્ષા

50. $6 + 3 + 0.3 =$
(A) 30 (B) 16
(C) 9 (D) 3

51. આપેલ વિકલ્પોમાંથી સાચી જોડણી શોધો.
(A) અભિવક્તિ (B) અભિવ્યક્તી
(C) આભીવ્યક્તિ (D) અભિવ્યક્તિ

52. નીચે મુજબની નિયામની શું બતાવે છે ?



- (A) સામે જમણી બાજુ રસ્તો નથી (B) ડાબી બાજુથી ઓવર ટેકિંગ મનાઈ છે
(C) જમણી બાજુ વળવાની મનાઈ છે (D) યુ ટર્ન મનાઈ છે

53. 'કાર'ની શોષખોળ કરનાર તરીકે સામાન્ય રીતે કોણ સ્વીકાર્ય છે ?
(A) કાર્લ માર્ક્સ (B) કાર્લ ડડ
(C) કાર્લ બેન્ઝ (D) કાર્લ જોન્સ

54. સત્યાગ્રહ આશ્રમને સનેની સાલમાં સાબરમતી નદીના કિનારે સ્થળાંતર કરવામાં આવેલો જે 'સાબરમતી આશ્રમ' તરીકે ઓળખાય છે.
(A) 1920 (B) 1919
(C) 1918 (D) 1917

55. 'ધોડા'નું 'દોડા' અને 'પંદર'નું 'પંડર' કઈ બોલીનું ઉચ્ચારણ છે ?
(A) પટ્ટણી (B) ચરોતરી
(C) સુરતી (D) કાઠિયાવાડી

56. 'મોડાસા' ક્યા જિલ્લાનું મુખ્ય મથક છે ?
(A) બનાસકાંઠા (B) સાબરકાંઠા
(C) અરવલ્લી (D) મહેસાણા

86HDR21_06]

57 નીચે મુજબની નિશાની શું બતાવે છે ?



- (A) આગળ પાણીની સુવિધા છે
(C) વાંકો ચૂકો રસ્તો

- (B) જમણે અને ડાબે વળવું નહીં
(D) આગળ જમણે અને ડાબે રોડ છે

58 જ્યાં રસ્તો લપસણો છે તેવી નિશાની દેખાય ત્યારે ડ્રાઈવર

- (A) આ પેકી એક પસા નહીં
(C) બ્રેક લગાવશે

- (B) એ ગતિએ જ આગળ વધશે
(D) ગિયર બદલીને ગતિ પીમી કરશે

59 સો રૂપિયાના વેપારમાં 6 ટકા નહો માપ તો 400 રૂપિયાના વેપારમાં કેટલા ટકા નહો થશે ?

- (A) 16 ટકા
(C) 12 ટકા

- (B) 6 ટકા
(D) 24 ટકા

60 'આગળ સ્ટૉપ છે' માટેની સાચી નિશાની કઈ છે ?

(A)



(B)



(C)



(D)



61 ગુજરાતમાં 'નવનિર્માણ' આંદોલન વખતે મુખ્યમંત્રી હતા.

- (A) શ્રી હિતેન્દ્રભાઈ દેસાઈ
(C) શ્રી છબીલદાસ મહેતા

- (B) શ્રી ચીમનભાઈ પટેલ
(D) શ્રી કેશુભાઈ પટેલ

62 ભારતના કેન્દ્રીય નાણાપ્રધાન હાલ છે.

- (A) આ પેકી એક પસા નહીં
(C) શ્રીમતી નિર્મલા સીતારામન

- (B) શ્રીમતી સ્મૃતી ઈરાની
(D) શ્રીમતી અનુપ્રિયા પટેલ

86HDR21_06]

10

[Contd...

- 63 વર્લ્ડ હેલ્થ ઓર્ગેનાઈઝેશન (WHO) સંગઠને ભારતમાં સૌપ્રથમ વખત ઓળખી કોરોનામાં આવેલા B.1.617.2 વાઈરસના વેરિઅન્ટને નામ આપ્યું છે.
- (A) ગામા (B) બીટા
(C) ડેલ્ટા (D) આલ્ફા

64 નીચે મુજબની નિશાની શું બતાવે છે ?



- (A) ડાબી બાજુ વળાંક લઈ આગળ વધો (B) જમણી બાજુ વળાંક લઈ આગળ વધો
(C) વાંકો ચૂકો રસ્તો ડાબી બાજુ (D) વાંકો ચૂકો રસ્તો જમણી બાજુ

- 65 'અભિજાત' શબ્દનો આપેલ વિકલ્પોમાંથી યોગ્ય સમાનાર્થી શોધો.
- (A) ઝમકદાર (B) તડિત
(C) ભયાનક (D) ખાનદાન

- 66 ભારતીય અર્થશાસ્ત્રી અને નોબલ પારિતોષિક વિજેતા એ સામાજિક વિજ્ઞાનની કેટેગરી હેઠળ સ્પેનનો અત્યંત પ્રતિષ્ઠિત પુરસ્કાર 'પ્રિન્સેસ ઓફ એસ્ટોરિસ (Asturias) એવોર્ડ 2021' જીતી લીધો છે.
- (A) અમિત મિત્રા (B) અભિજિત બેનર્જી
(C) અમર્ત્ય સેન (D) અરવિંદ પાનગરિયા

67 કઈ સંખ્યા સીધી મોટી છે ?

- (A) -1 (B) -7
(C) -13 (D) -16

68 નીચે મુજબની નિશાની શું બતાવે છે ?



- (A) આગળ પુલ ઉપર ટ્રાફિક છે (B) બંને દિશામાં જવું મનાઈ છે
(C) એકમાર્ગી રસ્તો (D) સીધા જાવ

- 69 'જેનું નામ લેવું પવિત્ર છે તે' - શબ્દસમૂહ માટે એક શબ્દ શોધો.
- (A) પુણ્ય (B) પુણ્યતિથિ
(C) પુણ્યશ્લોક (D) પુણ્યલોક

70 નીચે મુજબની નિશાની શું બતાવે છે ?



- (A) ટોડી સેવા છે
(C) આગળ સાંકડો રસ્તો છે

71 ગુજરાતનો 'સુવર્ણ યુગ' તરીકે ઓળખાય છે.

- (A) આ પેઢી એક પણ નહીં
(C) સોલંકી યુગ

- (B) ભયજનક સૂપડી છે
(D) આગળ ખાડા વાળો સાંકડો રસ્તો છે

72 આપેલ વિકલ્પોમાંથી સૌથી જોડણી શોધો.

- (A) પુનર્જીવિત
(C) પુનર્જીવીત

- (B) પુનર્જીવિત
(D) પુનર્જીવિત

73 નીચે મુજબની નિશાની શું બતાવે છે ?



- (A) ફરજિયાત જમણી બાજુ વળવું
(C) આગળ જમણી બાજુ રસ્તો છે

- (B) આગળ ડેડ એન્ડ છે
(D) પાછળ જમણી બાજુ રસ્તો છે

74 સામેથી આવતા વાહનને તમારી કઈ સાઈડથી પસાર થવા દેશો ?

- (A) જે તરફ ઓછો ટ્રાફિક દેખાય તે બાજુથી
(B) સાઈડ પર ઊભા રહી જઈને કોઈ પણ બાજુથી
(C) ડાબી બાજુથી
(D) જમણી બાજુથી

75 પૂજ્ય શ્રી મોટાનું બાળપણનું નામ શું હતું ?

- (A) શ્યામભાઈ ભાવસાર
(C) ચીનુભાઈ ભગત

- (B) મુનિલાલ ભાવસાર
(D) શ્યામલાલ ભગત

76 તારંગા પર્વત કયા જિલ્લામાં આવેલો છે ?

- (A) ભરૂચ
(C) મહેસાણા

- (B) સાબરકાંઠા
(D) અરવલ્લી

86HDR21_06]

12

[Contd...

77

પાટણમાં આવેલી 'રાણાકી વાવ' એ બંધાવી હતી.

- (A) તારામતી (B) ચૌલાદેવી
(C) ઉદયમતી (D) રાણાકદેવી

78

ગુજરાતમાં રાષ્ટ્રીય સંગીતના ક્ષેત્રમાં કઈ બે બહેનોનું પ્રદાન વર્ણ મોદું છે ?

- (A) આ પેકી એક પણ નહીં (B) અનસુયા-સીરાં
(C) તાના-સીરી (D) ઈલાબેન-કુમુદીની લાખિયા

79

'ગૌરવ' શબ્દનો આપેલ વિકલ્પોમાંથી યોગ્ય વિરુદ્ધાર્થી શોધો.

- (A) સંયોગ (B) લાઘવ
(C) મલિન (D) અસ્ત

80

નીચેની સંજ્ઞા શું બતાવે છે ?



- (A) નો એન્ટ્રી (B) આગળ ટ્રાફિક આઈલેન્ડ છે
(C) રસ્તો કાપવો નહીં (D) હોસ્પિટલ છે

81

નીચે મુજબની નિશાની શું બતાવે છે ?



- (A) ડાબી બાજુ ડેડ એન્ડ છે (B) ડાબી બાજુ વળવાની મનાઈ છે
(C) ડાબી બાજુ વળાંક લેવો (D) જમણી બાજુ ઓવરટેક કરવાની મનાઈ છે

82

કઈ રમતના ખેલાડીઓને 'સ્પાઈકર્સ' કહેવામાં આવે છે ?

- (A) હોકી (B) હેન્ડબોલ
(C) ફૂટબોલ (D) વોલીબોલ

83

નીચે મુજબની નિશાની શું બતાવે છે ?



- (A) આ પેકી એક પણ નહીં (B) રાહદારી માટેનો ઝોન છે
(C) વિદ્યાર્થી માટે મનાઈ છે (D) રાહદારી માટે મનાઈ છે

86HDR21_06]

13

[Contd...

84. ભારતમાં શિક્ષક દિન કઈ તારીખે મનાવવામાં આવે છે ?

- (A) 5 સપ્ટેમ્બર (B) 5 ડિસેમ્બર
(C) 1 નવેમ્બર (D) 1 સપ્ટેમ્બર

85. ભગવદ્ગોમંડલની રચના કરાવનાર ભગવતસિંહજી મહારાજ કયા રાજ્યના રાજવી હતા ?

- (A) રાજકોટ (B) ગોંડલ
(C) ભાવનગર (D) પાટણ

86. સરદાર વલ્લભભાઈ પટેલની 143મી જન્મ જયંતીના અવસરે લોકાર્પણ કરવામાં આવેલ સ્ટેચ્યૂ ઓફ યુનિટીના પ્રતિમાના ડિઝાઈનર કોણ હતા ?

- (A) શ્રી રામ વનજી સુતાર (B) શ્રી અનિય કપૂર
(C) શ્રી દશરથ પટેલ (D) શ્રી સતીષ ગુજરાલ

87. ગુજરાતમાં 'ભારડોલી સત્યાગ્રહ' સાથે કોનું નામ જોડાયેલું છે ?

- (A) શ્રી શામળદાસ ગાંધી (B) શ્રી સરદાર પટેલ
(C) શ્રી અમરસિંહભાઈ ચૌધરી (D) શ્રી મોરારજીભાઈ દેસાઈ

88. તમે એવા ચાર રસ્તા ઉપર પહોંચો છો જ્યાં સિગ્નલ લાઈટ કે પોલીસમેન નથી. તમે શું કરશો ?

- (A) મોટી જમણી તરફથી ચાર રસ્તા ઉપર આવતા ટ્રાફિકને રસ્તો આપીને આગળ વધીશ
(B) બીજા બધા જ વાહનોને ઊભા રાખી આગળ જઈશ
(C) યોગ્ય સિગ્નલ આપી હોર્ન વગાડી આગળ વધીશ
(D) અન્ય રોડ ઉપરથી ચાર રસ્તા તરફ આવતા દરેક વાહનોને જવા દઈશ

89. ગુજરાતનો સૌથી પ્રાચીન પુલ - 'હોપ પુલ' કઈ નદી પર બાંધવામાં આવેલો છે ?

- (A) મહી (B) સાબરમતી
(C) તાપી (D) નર્મદા

90. જો x ના 10% ના 10% = 10 હોય તો xની કિંમત શોધો.

- (A) 500 (B) 10000
(C) 1000 (D) 100

91. ખૂટતી શ્રેણી પૂરી કરો : 49, 64, 81, 100, 121,

- (A) 144 (B) 153
(C) 151 (D) 169

92. ગુજરાતનો પ્રથમ સત્યાગ્રહ કયો છે ?

- (A) દક્ષિણ ગુજરાત સત્યાગ્રહ (B) ભારડોલી સત્યાગ્રહ
(C) ખેડ સત્યાગ્રહ (D) ભારત છોડો આંદોલન

86HDR21_06]

14

[Contd..

93 સ્મિતાની ઓળખ આપતાં સુકેશે કહ્યું : 'તેણી મારી માતાના એક માત્ર ભાઈના એક માત્ર ભાણેજની પત્ની છે.' તો સ્મિતાનો સુકેશ સાથે શો સંબંધ થાય ? (ત્રાત્તી)

- (A) વિગત અપૂરી છે (B) સાળી
(C) પત્ની (D) બહેન

94 ભારતના કયા મહાન દોડવીર તેમજ પદ્મશ્રીનું 91 વર્ષની વયે ચંદીચંદમાં નિધન થયું છે ?

- (A) બિરાનસિંઘ (B) રઘુબીરસિંઘ
(C) ડિકોસિંઘ (D) મિલ્ખાસિંઘ

95 ગુજરાતમાં સમ્રાટ અશોકનો શિલાલેખ કયાં આવેલો છે ?

- (A) જામનગરમાં (B) પાટણમાં
(C) ભાવનગરમાં (D) ગિરનારની તળેટીમાં

96 કઈ બોલીમાં આદિમ વાણીની અસરો જોવા મળે છે ?

- (A) પટ્ટણી (B) ચરોતરી
(C) સુરતી (D) કાઠિયાવાડી

97 'જય જય ગરવી ગુજરાત'ના રચયિતા કવિ કોણ હતા ?

- (A) નર્મદ (B) ઝવેરચંદ મેઘાણી
(C) દલપતરામ (D) નરસિંહ મહેતા

98 અભયઘાટ કોની સમાધિ છે ?

- (A) શ્રી મોરારજીભાઈ દેસાઈ (B) શ્રી લાલબહાદુર શાસ્ત્રી
(C) શ્રી રાજીવ ગાંધી (D) શ્રીમતી ઇન્દિરા ગાંધી

99 'સાપ' શબ્દનો આપેલ વિકલ્પોમાંથી યોગ્ય સમાનાર્થી શોધો.

- (A) ઝાંઝ (B) હપ
(C) અહિ (D) તોખાર

100 'શઈડર કપ' કઈ રમત સાથે સંકળાયેલ છે ?

- (A) ગોલ્ફ (B) હોકી
(C) પોલો (D) કબડી

[86HDR21_06]

15

[Contd...]